

Θέματα Θαλή της Ε.Μ.Ε.
ανά τάξη (όλες οι τάξεις)

2006 εως 2015

έκδοση: 27 -09-2014

από τον parmenides51

Θέματα ανά Τάξη

- Β' Γυμνασίου
- Γ' Γυμνασίου
- Α' Λυκείου
- Β' Λυκείου
- Γ' Λυκείου

σχολικό έτος αριθμηση / ημερομηνία ονομασία

Διαγωνισμός Θαλής

2006-2007	67 ^{ος} / 09-12-2006	Θαλής 2006
2007-2008	68 ^{ος} / 24-11-2007	Θαλής 2007
2008-2009	69 ^{ος} / 01-11-2008	Θαλής 2008
2009-2010	70 ^{ος} / 21-11-2009	Θαλής 2009
2010-2011	71 ^{ος} / 30-10-2010	Θαλής 2010
2011-2012	72 ^{ος} / 19-11-2011	Θαλής 2011
2012-2013	73 ^{ος} / 20-10-2012	Θαλής 2012
2013-2014	74 ^{ος} / 19-10-2013	Θαλής 2013
2014-2015	75 ^{ος} / 01-11-2014	Θαλής 2014

Για ευκολία χρησιμοποιήστε τους σελιδοδείκτες (bookmarks) στο αριστερό μέρος του pdf.

Θέματα Θαλή
της Β' Γυμνασίου

2006 εως 2015

από τον parmenides51

σχολικό έτος αριθμηση / ημερομηνία ονομασία

Διαγωνισμός Θαλής

2006-2007	67 ^{ος} / 09-12-2006	Θαλής 2006
2007-2008	68 ^{ος} / 24-11-2007	Θαλής 2007
2008-2009	69 ^{ος} / 01-11-2008	Θαλής 2008
2009-2010	70 ^{ος} / 21-11-2009	Θαλής 2009
2010-2011	71 ^{ος} / 30-10-2010	Θαλής 2010
2011-2012	72 ^{ος} / 19-11-2011	Θαλής 2011
2012-2013	73 ^{ος} / 20-10-2012	Θαλής 2012
2013-2014	74 ^{ος} / 19-10-2013	Θαλής 2013
2014-2015	75 ^{ος} / 01-11-2014	Θαλής 2014

Για ευκολία χρησιμοποιήστε τους σελιδοδείκτες (bookmarks) στο αριστερό μέρος του pdf.



ΕΠΙΤΡΟΠΗ ΔΙΑΓΩΝΙΣΜΩΝ
67^{ος} ΠΑΝΕΛΛΗΝΙΟΣ ΜΑΘΗΤΙΚΟΣ ΔΙΑΓΩΝΙΣΜΟΣ
ΣΤΑ ΜΑΘΗΜΑΤΙΚΑ
“Ο ΘΑΛΗΣ”
ΣΑΒΒΑΤΟ, 9 ΔΕΚΕΜΒΡΙΟΥ 2006

Β΄ τάξη Γυμνασίου

1. Να υπολογίσετε την παράσταση:

$$A = \left\{ 111 - \left[264 - \left(15 + \frac{54}{6} \right) \cdot |-5| \right] : 12 \right\} : 11 + 1$$

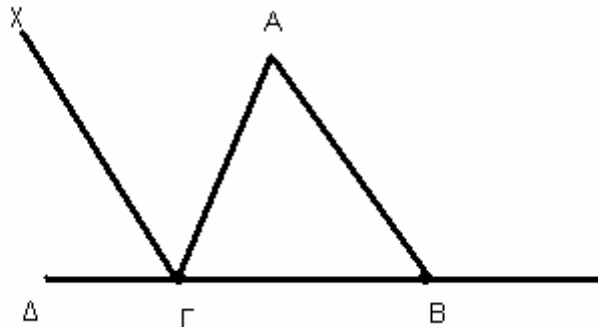
2. Είναι δυνατόν ένα χαρτονόμισμα των 100€ να ανταλλαγεί με 18 νομίσματα των 2€ και των 10€;

3. Το 6% του αριθμού $\alpha \neq 0$ είναι ίσο με το 4% του αριθμού β . Να βρείτε την τιμή του κλάσματος.

$$K = \frac{9\alpha - 3\beta}{6\alpha - \beta}$$

4. Στο παρακάτω σχήμα είναι $AB = B\Gamma$ και η διχοτόμος

$\Gamma\chi$ της γωνίας $\widehat{A\Gamma\Delta}$ είναι παράλληλη στην AB . Να υπολογίσετε τις γωνίες του τριγώνου $AB\Gamma$.



ΚΑΛΗ ΕΠΙΤΥΧΙΑ



ΕΠΙΤΡΟΠΗ ΔΙΑΓΩΝΙΣΜΩΝ
68^{ος} ΠΑΝΕΛΛΗΝΙΟΣ ΜΑΘΗΤΙΚΟΣ ΔΙΑΓΩΝΙΣΜΟΣ
ΣΤΑ ΜΑΘΗΜΑΤΙΚΑ
“Ο ΘΑΛΗΣ”
ΣΑΒΒΑΤΟ, 24 ΝΟΕΜΒΡΙΟΥ 2007

Β΄ τάξη Γυμνασίου

Πρόβλημα 1.

Να υπολογίσετε την τιμή της αριθμητικής παράστασης

$$A = (200 : 8 + 12 \cdot 100) + [200 : (8 + 2) + 762] \cdot [(-1)^{13} + (-1)^{12} + (-1)^{2007}]^2.$$

Πρόβλημα 2.

Οι μαθητές ενός Γυμνασίου μπορούν να παραταχθούν σε εξάδες, σε οκτάδες και σε δεκάδες, χωρίς να περισσεύει κανείς. Τα πλήθη των μαθητών των τάξεων Α΄, Β΄ και Γ΄ είναι αριθμοί ανάλογοι προς τους αριθμούς 5, 4 και 3, αντίστοιχα. Αν το πλήθος των μαθητών του Γυμνασίου είναι αριθμός μεγαλύτερος του 300 και μικρότερος του 400, να βρεθεί το πλήθος των μαθητών κάθε τάξης.

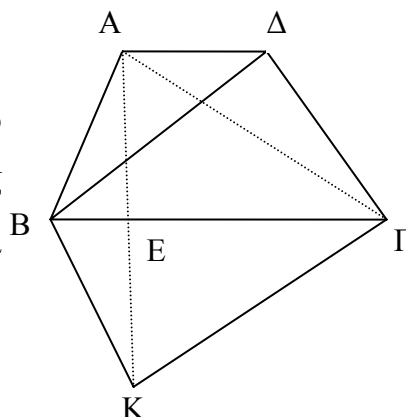
Πρόβλημα 3.

Ένας έμπορος αγόρασε 200 κιλά φράουλες με τιμή αγοράς 3 ευρώ το κιλό. Κατά τη μεταφορά είχε απώλεια 10% στα κιλά που αγόρασε. Πόσο πρέπει να πουλήσει το κιλό τις φράουλες ώστε να έχει κέρδος 20% επί της τιμής της αγοράς;

Πρόβλημα 4.

Στο τραπέζιο ΑΒΓΔ του διπλανού σχήματος η μεγάλη βάση ΒΓ είναι διπλάσια της μικρής βάσης ΑΔ. Αν το εμβαδόν του τραpezίου είναι 300cm^2 και το σημείο Κ είναι το συμμετρικό του Α ως προς την ευθεία ΒΓ (δηλαδή η ΒΓ είναι μεσοκάθετος της ΑΚ), να υπολογίσετε:

- (α) το εμβαδόν του τριγώνου ΑΒΔ και
 (β) το εμβαδόν του τετραπλεύρου ΑΒΚΓ.



ΚΑΛΗ ΕΠΙΤΥΧΙΑ



ΕΠΙΤΡΟΠΗ ΔΙΑΓΩΝΙΣΜΩΝ
69^{ος} ΠΑΝΕΛΛΗΝΙΟΣ ΜΑΘΗΤΙΚΟΣ ΔΙΑΓΩΝΙΣΜΟΣ
ΣΤΑ ΜΑΘΗΜΑΤΙΚΑ
“Ο ΘΑΛΗΣ”
ΣΑΒΒΑΤΟ, 1 ΝΟΕΜΒΡΙΟΥ 2008

Β΄ ΓΥΜΝΑΣΙΟΥ

1. Να υπολογίσετε την τιμή της παράστασης:

$$A = 4^2 \cdot 25^2 + 2008 : 4 + (3^3 - 5^2) \cdot 249 - 10^4$$

Μονάδες 5

2. Στο διπλανό σχήμα η ευθεία Ay είναι παράλληλη προς την πλευρά $B\Gamma$ του τριγώνου $AB\Gamma$ και διχοτόμος της γωνίας \hat{A} . Δίνεται ακόμη ότι:

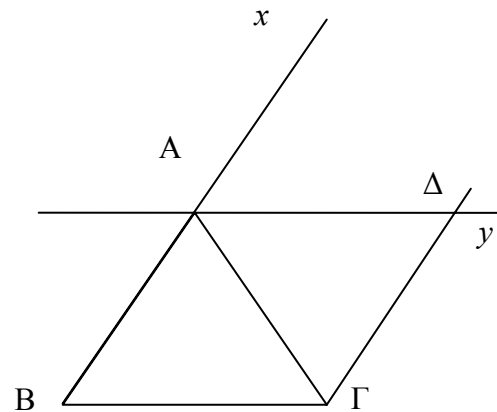
$$\hat{B}\hat{A}\hat{\Gamma} = 62^\circ \text{ και } AB = A\Delta.$$

- (α) Να βρείτε τις γωνίες \hat{B} και $\hat{\Gamma}$ του τριγώνου $AB\Gamma$.

Μονάδες 2

- (β) Να εξηγήσετε γιατί η $B\Delta$ είναι διχοτόμος της γωνίας \hat{A} .

Μονάδες 3



3. Αν για το θετικό ακέραιο αριθμό α ισχύει:

$$\frac{21}{5} < \frac{42}{\alpha} < \frac{21}{4},$$

να βρεθεί η τιμή της παράστασης

$$A = \alpha + 5(4 + \alpha) + 3(\alpha - 4) + 1919 .$$

Μονάδες 5

4. Ένα Γυμνάσιο συμμετέχει στην παρέλαση για την επέτειο μιας Εθνικής Εορτής με το 60% του αριθμού των αγοριών και το 80% του αριθμού των κοριτσιών του. Τα αγόρια που συμμετέχουν, αν παραταχθούν σε τριάδες, τότε δεν περισσεύει κανείς, ενώ, αν παραταχθούν σε πεντάδες ή επτάδες, τότε και στις δύο περιπτώσεις περισσεύουν από τρεις. Όλα τα αγόρια του Γυμνασίου είναι περισσότερα από 100 και λιγότερα από 200. Αν το 80% των κοριτσιών είναι αριθμός διπλάσιος από τον αριθμό που αντιστοιχεί στο 60% του αριθμού των αγοριών, να βρείτε το συνολικό αριθμό των κοριτσιών και αγοριών του Γυμνασίου.

Μονάδες 5



ΕΠΙΤΡΟΠΗ ΔΙΑΓΩΝΙΣΜΩΝ
70^{ος} ΠΑΝΕΛΛΗΝΙΟΣ ΜΑΘΗΤΙΚΟΣ ΔΙΑΓΩΝΙΣΜΟΣ
ΣΤΑ ΜΑΘΗΜΑΤΙΚΑ
“Ο ΘΑΛΗΣ”
ΣΑΒΒΑΤΟ, 21 ΝΟΕΜΒΡΙΟΥ 2009

Β΄ ΓΥΜΝΑΣΙΟΥ

ΘΕΜΑ 1^ο

Αν $a = 4 - 2\frac{1}{5}$ και $b = 5 + \frac{-3}{2} - \frac{-5}{-2}$, να υπολογίσετε την τιμή παράστασης:

$$A = a : b^{2009} - b - \frac{1}{5a}.$$

Μονάδες 5

ΘΕΜΑ 2^ο

Έστω α θετικός ακέραιος τον οποίο διαιρούμε με 4.

- (i) Ποιες είναι οι δυνατές μορφές του παραπάνω θετικού ακέραιου α ;
(ii) Ποιες είναι οι δυνατές τιμές που μπορεί να πάρει ο αριθμός α , αν είναι περιττός, μεγαλύτερος από 39 και μικρότερος από 50, και διαιρούμενος με το 4 δίνει υπόλοιπο 1.

Μονάδες 5

ΘΕΜΑ 3^ο

Δίνεται ένα τρίγωνο ABΓ, του οποίου οι γωνίες \hat{B} και $\hat{\Gamma}$ έχουν άθροισμα 140° και είναι ανάλογες με τους αριθμούς 1 και 6, αντίστοιχα.

- (α) Να βρεθούν οι γωνίες του τριγώνου.
(β) Να υπολογίσετε τη γωνία που σχηματίζουν το ύψος και η διχοτόμος του τριγώνου ABΓ που αντιστοιχούν στην πλευρά του ΒΓ.

Μονάδες 5

ΘΕΜΑ 4^ο

Από τους μαθητές ενός Γυμνασίου, το $\frac{1}{4}$ ασχολείται με το στίβο, το $\frac{1}{5}$ ασχολείται με το μπάσκετ, το $\frac{1}{8}$ ασχολείται με το βόλεϊ και περισσεύουν και 80 μαθητές που δεν ασχολούνται

με κανένα από αυτά τα αθλήματα. Δεδομένου ότι οι μαθητές του Γυμνασίου οι ασχολούμενοι με τον αθλητισμό, ασχολούνται με ένα μόνο άθλημα, εκτός από 12 μαθητές που ασχολούνται και με το μπάσκετ και με το βόλεϊ, να βρείτε:

- (α) Ποιος είναι ο αριθμός των μαθητών του Γυμνασίου;
(β) Πόσοι είναι οι μαθητές του Γυμνασίου που ασχολούνται μόνο με το μπάσκετ;

Μονάδες 5

ΚΑΛΗ ΕΠΙΤΥΧΙΑ



ΕΠΙΤΡΟΠΗ ΔΙΑΓΩΝΙΣΜΩΝ
71^{ος} ΠΑΝΕΛΛΗΝΙΟΣ ΜΑΘΗΤΙΚΟΣ ΔΙΑΓΩΝΙΣΜΟΣ
ΣΤΑ ΜΑΘΗΜΑΤΙΚΑ
“Ο ΘΑΛΗΣ”
ΣΑΒΒΑΤΟ, 30 ΟΚΤΩΒΡΙΟΥ 2010

Β΄ Γυμνασίου

1. Έστω $x = 3^2 - 4 \cdot 2^3 : 4 + 2^5$ και $y = 4 \cdot 5^2 - 4^3 + 7 \cdot 3^2$.

(α) Να βρεθούν οι αριθμοί x και y .

(β) Να προσδιορίσετε το μεγαλύτερο ακέραιο A του οποίου οι αριθμοί x και y είναι πολλαπλάσια.

2. Έστω α, β φυσικοί αριθμοί. Δίνεται ότι η Ευκλείδεια διαίρεση με διαιρέτες τον α και διαιρέτη τον β δίνει πηλίκο 6. Να βρεθεί ο αριθμός α , αν επιπλέον γνωρίζετε ότι ο α είναι πολλαπλάσιο του 7, ενώ ο αριθμός β είναι ο μέγιστος κοινός διαιρέτης των αριθμών 16, 32 και 248.

3. Δίνεται τρίγωνο $AB\Gamma$. Οι διχοτόμοι των γωνιών B και Γ τέμνονται στο σημείο I . Η παράλληλη από το σημείο I προς την πλευρά AB τέμνει την πλευρά $B\Gamma$ στο Δ ενώ η παράλληλη από το σημείο I προς την πλευρά AG τέμνει την πλευρά $B\Gamma$ στο σημείο E . Αν είναι $\hat{I}\Delta\Gamma = 70^\circ$ και $\hat{I}\hat{E}\Gamma = 130^\circ$, να βρεθούν:

α) η γωνία \hat{A} του τριγώνου $AB\Gamma$.

β) οι γωνίες $\hat{B}\hat{I}\Delta$ και $\hat{E}\hat{I}\Gamma$.

4. Ένας αγρότης καλλιέργησε δύο κτήματα με ελαιόδενδρα. Το ένα κτήμα είναι δικό του και έχει 80 ελαιόδενδρα, ενώ το άλλο το μισθώνει και έχει 120 ελαιόδενδρα. Η συνολική παραγωγή λαδιού ήταν 2600 κιλά λάδι. Αν είχε συμφωνήσει να δώσει στον ιδιοκτήτη του μισθωμένου κτήματος το 10% της παραγωγής λαδιού του μισθωμένου κτήματος, πόσα κιλά λάδι θα πάρει ο ιδιοκτήτης του μισθωμένου κτήματος σε καθεμία από τις παρακάτω περιπτώσεις:

α. Καθένα από τα ελαιόδενδρα των δύο κτημάτων παράγει τα ίδια κιλά λάδι.

β. Κάθε ελαιόδενδρο του μισθωμένου κτήματος έχει απόδοση σε λάδι ίση με το 150% της απόδοσης σε λάδι κάθε ελαιόδενδρου του κτήματος του αγρότη.

Κάθε θέμα βαθμολογείται με 5 μονάδες

ΚΑΛΗ ΕΠΙΤΥΧΙΑ



ΕΠΙΤΡΟΠΗ ΔΙΑΓΩΝΙΣΜΩΝ
72^{ος} ΠΑΝΕΛΛΗΝΙΟΣ ΜΑΘΗΤΙΚΟΣ ΔΙΑΓΩΝΙΣΜΟΣ
ΣΤΑ ΜΑΘΗΜΑΤΙΚΑ
“Ο ΘΑΛΗΣ”
19 Νοεμβρίου 2011
Β' ΓΥΜΝΑΣΙΟΥ

Πρόβλημα 1

Να υπολογίσετε την τιμή της παράστασης:

$$A = \left(\frac{2}{7} + 1 - \frac{1}{14} \right) : \frac{17}{2} - \frac{1}{7} + 5 \frac{1}{6} - \left(\frac{3}{2} + \frac{7}{3} \cdot 2 - 1 \right).$$

Πρόβλημα 2

Αν ο v είναι πρώτος φυσικός αριθμός και το κλάσμα $\frac{10}{v}$ παριστάνει φυσικό αριθμό, να βρείτε όλες τις δυνατές τιμές της παράστασης:

$$B = \frac{2}{v - \frac{1}{5}} : \frac{v - \frac{v}{2}}{9}.$$

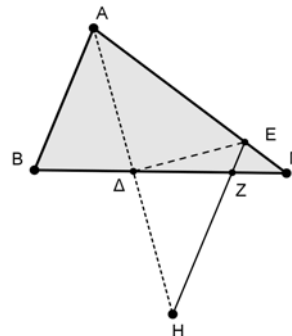
Πρόβλημα 3

Τρεις αριθμοί α , β , γ είναι ανάλογοι με τους αριθμούς 3, 9, 11 αντίστοιχα. Αν πάρουμε τον αριθμό γ ως μειωτέο και τον αριθμό α ως αφαιρετέο, τότε προκύπτει διαφορά ίση με 56. Να βρεθούν οι αριθμοί α , β και γ .

Πρόβλημα 4

Δίνεται οξυγώνιο τρίγωνο $AB\Gamma$ με $AB < A\Gamma$ και η διχοτόμος του $A\Delta$. Προεκτείνουμε τη διχοτόμο $A\Delta$ κατά το ευθύγραμμο τμήμα ΔH έτσι ώστε $A\Delta = \Delta H$. Από το σημείο H φέρνουμε ευθεία παράλληλη προς την πλευρά AB που τέμνει την πλευρά $A\Gamma$ στο σημείο E και την πλευρά $B\Gamma$ στο σημείο Z .

1. Να αποδείξετε ότι : $\hat{A}\Delta E = 90^\circ$.
2. Να βρείτε τη γωνία $\hat{E}\Delta Z$, αν γνωρίζετε ότι : $\hat{B} - \hat{\Gamma} = 20^\circ$.



*Κάθε θέμα βαθμολογείται με 5 μονάδες
Διάρκεια διαγωνισμού: 3 ώρες
Καλή επιτυχία!*



ΕΠΙΤΡΟΠΗ ΔΙΑΓΩΝΙΣΜΩΝ
73^{ος} ΠΑΝΕΛΛΗΝΙΟΣ ΜΑΘΗΤΙΚΟΣ ΔΙΑΓΩΝΙΣΜΟΣ
ΣΤΑ ΜΑΘΗΜΑΤΙΚΑ
“Ο ΘΑΛΗΣ”
20 Οκτωβρίου 2012

Β' ΓΥΜΝΑΣΙΟΥ

Πρόβλημα 1

Να υπολογίσετε την τιμή της παράστασης:

$$A = \left(18 - \frac{2}{5}\right) : \frac{44}{5} - \frac{39}{5} \cdot \left(\frac{5}{11} : \left(3 + \frac{6}{11}\right)\right)$$

Πρόβλημα 2

Αν ο κ είναι πρώτος θετικός ακέραιος και διαιρέτης του μέγιστου κοινού διαιρέτη των ακεραίων 12, 30 και 54, να βρείτε όλες τις δυνατές τιμές του κ και της παράστασης:

$$B = \frac{2 - \frac{\kappa}{2}}{\kappa - \frac{1}{2}} : \frac{3 - \kappa}{\kappa}$$

Πρόβλημα 3

Ένας ελαιοπαραγωγός έχει παραγωγή λαδιού 800 κιλά. Για την καλλιέργεια του ελαιώνα του ξόδεψε 407 ευρώ και για τη συγκομιδή του καρπού από τις ελιές του ξόδεψε 1050 ευρώ. Η τιμή πώλησης του λαδιού είναι 2,5 ευρώ το κιλό και κατά την πώληση του λαδιού υπάρχουν κρατήσεις σε ποσοστό 6% πάνω στην τιμή πώλησης.

- (α) Να βρείτε πόσα κιλά λάδι πρέπει να πωλήσει ο παραγωγός για να καλύψει τα έξοδά του.
- (β) Αν επιπλέον το ελαιοτριβείο (εργοστάσιο που παράγεται το λάδι) κρατάει για την αμοιβή του το 8% του παραγόμενου λαδιού, να βρείτε πόσα κιλά λάδι θα μείνουν στον παραγωγό μετά την πώληση λαδιού για την κάλυψη των εξόδων του.

Πρόβλημα 4

Δίνεται τρίγωνο $AB\Gamma$ με $\hat{A} = 60^\circ$ και $A\Gamma = \frac{3}{2} \cdot AB$. Παίρνουμε σημείο E πάνω στην πλευρά $A\Gamma$ τέτοιο ώστε $AE = AB$. Αν η διχοτόμος της γωνίας \hat{A} τέμνει το ευθύγραμμο τμήμα BE στο σημείο Δ , να βρείτε τις γωνίες του τριγώνου $DE\Gamma$.

*Κάθε θέμα βαθμολογείται με 5 μονάδες
Διάρκεια διαγωνισμού: 3 ώρες*

Καλή επιτυχία!



ΕΠΙΤΡΟΠΗ ΔΙΑΓΩΝΙΣΜΩΝ
74^{ος} ΠΑΝΕΛΛΗΝΙΟΣ ΜΑΘΗΤΙΚΟΣ ΔΙΑΓΩΝΙΣΜΟΣ
ΣΤΑ ΜΑΘΗΜΑΤΙΚΑ
“Ο ΘΑΛΗΣ”
19 Οκτωβρίου 2013

Β' ΓΥΜΝΑΣΙΟΥ

Πρόβλημα 1

Να υπολογίσετε την τιμή της παράστασης:

$$A = 32 - 12 : 4 + 53 + 3 \cdot 4 + \frac{16}{9} : \frac{1}{8} - \frac{74}{9} .$$

Πρόβλημα 2

Ένας οικογενειάρχης πήρε από την τράπεζα ένα ποσό χρημάτων. Από αυτά ξόδεψε το 20% για την αγορά ενός φορητού ηλεκτρονικού υπολογιστή. Στη συνέχεια, από τα χρήματα που του έμειναν ξόδεψε το 15% για αγορά τροφίμων της οικογένειας. Αν του έμειναν τελικά 1360 ευρώ, να βρείτε:

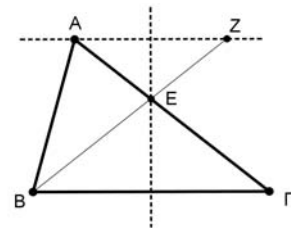
(α) Πόσα χρήματα πήρε από την τράπεζα ο οικογενειάρχης.

(β) Πόσα χρήματα στοίχισαν τα τρόφιμα.

(γ) Ποιο ποσοστό των χρημάτων που πήρε από την τράπεζα ξόδεψε συνολικά.

Πρόβλημα 3

Δίνεται τρίγωνο $AB\Gamma$ στο οποίο η γωνία \hat{B} είναι διπλάσια της γωνίας $\hat{\Gamma}$. Η μεσοκάθετη της πλευράς $B\Gamma$ τέμνει την πλευρά $A\Gamma$ στο σημείο E και η ευθεία BE τέμνει την ευθεία ε , που περνάει από το σημείο A και είναι παράλληλη προς την πλευρά $B\Gamma$, στο σημείο Z . Να αποδείξετε ότι:



(α) $AZ = AB$,

(β) $\angle AEB = \hat{B}$.

Πρόβλημα 4

Ο λόγος δυο φυσικών αριθμών είναι $\frac{7}{5}$. Διαιρώντας τον μεγαλύτερο αριθμό με το

18, το πηλίκο της διαίρεσης είναι ίσο με 8, ενώ διαιρώντας τον μικρότερο αριθμό με το 12 το πηλίκο της διαίρεσης είναι ίσο με 9. Αν γνωρίζετε ότι το υπόλοιπο της διαίρεσης του μεγαλύτερου αριθμού με το 18 είναι πενταπλάσιο του υπόλοιπου της διαίρεσης του μικρότερου αριθμού με το 12, να βρείτε τους δυο αριθμούς.

*Κάθε θέμα βαθμολογείται με 5 μονάδες
Διάρκεια διαγωνισμού: 3 ώρες*

Καλή επιτυχία!



ΕΠΙΤΡΟΠΗ ΔΙΑΓΩΝΙΣΜΩΝ
75^{ος} ΠΑΝΕΛΛΗΝΙΟΣ ΜΑΘΗΤΙΚΟΣ ΔΙΑΓΩΝΙΣΜΟΣ
ΣΤΑ ΜΑΘΗΜΑΤΙΚΑ “Ο ΘΑΛΗΣ”
1 Νοεμβρίου 2014

Β΄ ΓΥΜΝΑΣΙΟΥ

Πρόβλημα 1

Να υπολογίσετε την τιμή της παράστασης: $A = \frac{13}{9} - \frac{74}{9} \cdot \frac{3}{37} + \left(\frac{3}{4}\right)^{-2} : 8$

Πρόβλημα 2

Ένας έμπορος συλλεκτικών αντικειμένων αγόρασε δύο παλαιά ραδιόφωνα Α και Β αντί 200 ευρώ και στη συνέχεια τα πούλησε με συνολικό κέρδος 40% πάνω στην τιμή της αγοράς τους. Αν το ραδιόφωνο Α πουλήθηκε με κέρδος 25% και το ραδιόφωνο Β πουλήθηκε με κέρδος 50%, πάνω στην τιμή της αγοράς τους, να βρείτε πόσο πλήρωσε ο έμπορος για να αγοράσει το καθένα από τα ραδιόφωνα Α και Β.

Πρόβλημα 3

Χωρίς την εκτέλεση των διαιρέσεων αριθμητή με παρανομαστή, να βρείτε τον μεγαλύτερο και τον μικρότερο από τους παρακάτω αριθμούς:

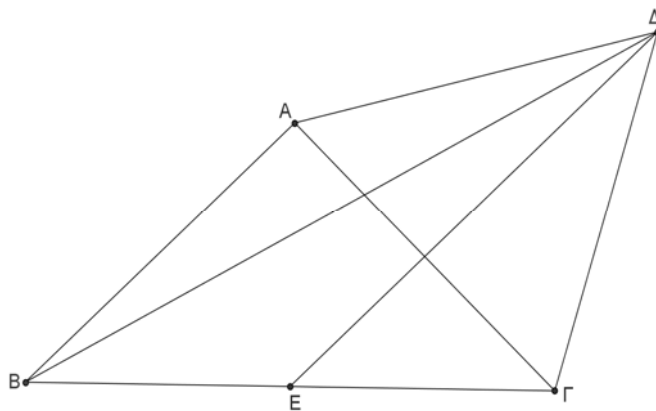
$$\frac{1003}{2015}, \frac{1007}{2019}, \frac{1009}{2021}, \frac{997}{2009}, \frac{1011}{2023}, \frac{999}{2011}, \frac{1001}{2013}, \frac{1005}{2017}$$

Πρόβλημα 4

Στο παρακάτω σχήμα το τρίγωνο ΑΒΓ είναι ορθογώνιο ισοσκελές με $\hat{A} = 90^\circ$ και $AB = AG$. Το τρίγωνο ΑΓΔ είναι ισόπλευρο και το σημείο Ε είναι το μέσο της πλευρά ΒΓ.

(α) Να αποδείξετε ότι η ευθεία ΔΕ είναι μεσοκάθετη του ευθύγραμμου τμήματος ΑΓ.

(β) Βρείτε πόσων μοιρών είναι η γωνία ΒΔΕ.



Κάθε θέμα βαθμολογείται με 5 μονάδες

Διάρκεια διαγωνισμού: 3 ώρες

Καλή επιτυχία!

Θέματα Θαλή
της Γ' Γυμνασίου

2006 εως 2015

από τον parmenides51

σχολικό έτος αριθμηση / ημερομηνία ονομασία

Διαγωνισμός Θαλής

2006-2007	67 ^{ος} / 09-12-2006	Θαλής 2006
2007-2008	68 ^{ος} / 24-11-2007	Θαλής 2007
2008-2009	69 ^{ος} / 01-11-2008	Θαλής 2008
2009-2010	70 ^{ος} / 21-11-2009	Θαλής 2009
2010-2011	71 ^{ος} / 30-10-2010	Θαλής 2010
2011-2012	72 ^{ος} / 19-11-2011	Θαλής 2011
2012-2013	73 ^{ος} / 20-10-2012	Θαλής 2012
2013-2014	74 ^{ος} / 19-10-2013	Θαλής 2013
2014-2015	75 ^{ος} / 01-11-2014	Θαλής 2014

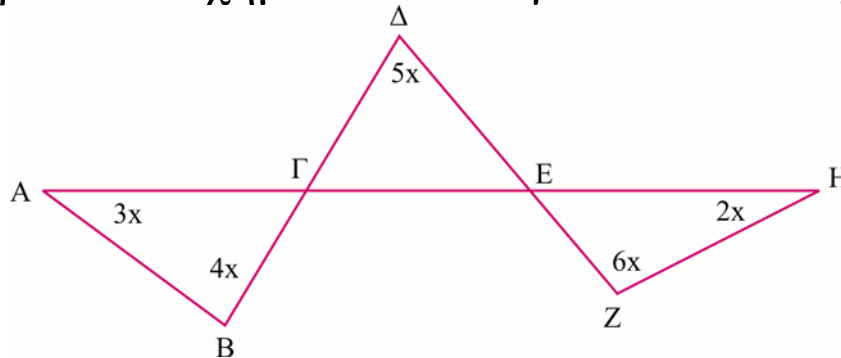
Για ευκολία χρησιμοποιήστε τους σελιδοδείκτες (bookmarks) στο αριστερό μέρος του pdf.



ΕΠΙΤΡΟΠΗ ΔΙΑΓΩΝΙΣΜΩΝ
67^{ος} ΠΑΝΕΛΛΗΝΙΟΣ ΜΑΘΗΤΙΚΟΣ ΔΙΑΓΩΝΙΣΜΟΣ
ΣΤΑ ΜΑΘΗΜΑΤΙΚΑ
“Ο ΘΑΛΗΣ”
ΣΑΒΒΑΤΟ, 9 ΔΕΚΕΜΒΡΙΟΥ 2006

Γ' τάξη Γυμνασίου

1. Στο παρακάτω σχήμα να υπολογίσετε το x σε μοίρες



2. Αν $\alpha + 2\beta + \frac{\gamma}{2} = 0$ και $\alpha\beta\gamma=10$, τότε να υπολογίσετε την τιμή της παράστασης:

$$A = \alpha^2 \left(\alpha + \frac{\gamma}{2}\right)^2 \cdot (\alpha + 2\beta)^2$$

3. Αν p είναι πρώτος αριθμός, να αποδείξετε ότι ο αριθμός $27p + 1$ είναι σύνθετος.

4. Να εξετάσετε αν υπάρχουν πραγματικοί αριθμοί α, β διάφοροι του μηδενός, τέτοιοι ώστε

$$\frac{3}{2} \alpha \beta^{-1} + \frac{10}{3} \alpha^{-1} \beta = 3.$$



ΕΠΙΤΡΟΠΗ ΔΙΑΓΩΝΙΣΜΩΝ
68^{ος} ΠΑΝΕΛΛΗΝΙΟΣ ΜΑΘΗΤΙΚΟΣ ΔΙΑΓΩΝΙΣΜΟΣ
ΣΤΑ ΜΑΘΗΜΑΤΙΚΑ
“Ο ΘΑΛΗΣ”
ΣΑΒΒΑΤΟ, 24 ΝΟΕΜΒΡΙΟΥ 2007
Γ΄ τάξη Γυμνασίου

Πρόβλημα 1

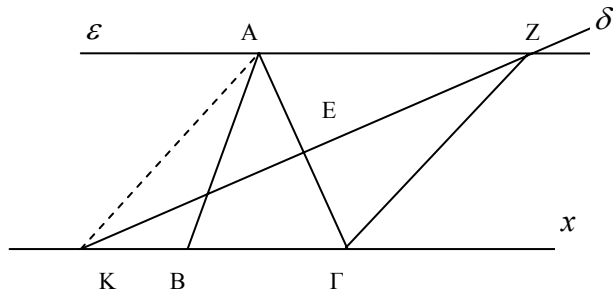
Να υπολογίσετε την τιμή των παραστάσεων:

$$A = -\left[(-2)^8 : (-4)^2 + (-4)^2\right] : (-2)^4, \quad B = -(x-3) - 3(y-4) - [x(y-2) - y(x+3)].$$

Για ποιες τιμές του x αληθεύει η ανίσωση: $A > B$.

Πρόβλημα 2

Στο παρακάτω σχήμα το τρίγωνο $AB\Gamma$ είναι ισοσκελές με $AB = A\Gamma$ και $\widehat{B\hat{A}\Gamma} = 40^\circ$. Η ευθεία ε είναι παράλληλη προς την πλευρά $B\Gamma$ και η ευθεία δ είναι μεσοκάθετη της πλευράς $A\Gamma$.



- (α) Να υπολογίσετε τη γωνία $Z\hat{\Gamma}x$,
 (β) Να αποδείξετε ότι $KA = AZ$.

Πρόβλημα 3

(α) Να αποδείξετε ότι, αν ένας φυσικός αριθμός είναι τετράγωνο φυσικού αριθμού, τότε το τελευταίο του ψηφίο ανήκει στο σύνολο $\Sigma = \{0, 1, 4, 5, 6, 9\}$.

(β) Να βρεθεί πενταψήφιος φυσικός αριθμός της μορφής $A = aaabb$, όπου a, b ψηφία με $a \neq 0$, ο οποίος είναι τετράγωνο φυσικού αριθμού, περιττός και διαιρείται με το 9.

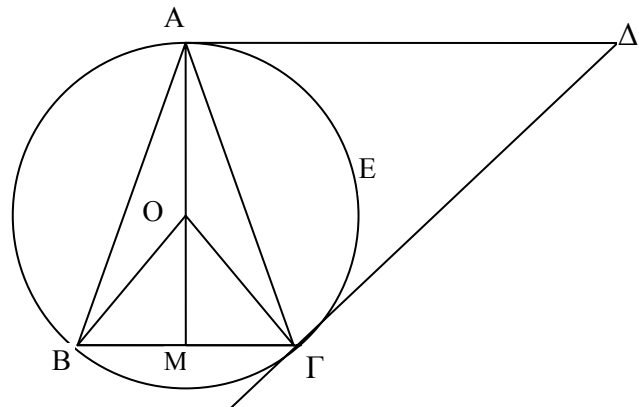
Πρόβλημα 4

Στο διπλανό σχήμα δίνεται ισοσκελές τρίγωνο $AB\Gamma$ με $AB = A\Gamma$ και $\widehat{B\hat{A}\Gamma} = 30^\circ$. Η $A\Delta$ είναι παράλληλη προς τη $B\Gamma$ και η $\Gamma\Delta$ είναι κάθετη προς την $O\Gamma$.

(α) Να υπολογίσετε το εμβαδόν του κυκλικού τομέα $OAE\Gamma$ συναρτήσει της πλευράς $B\Gamma = a$ του τριγώνου $AB\Gamma$.

(β) Να υπολογίσετε το εμβαδόν του τριγώνου $AB\Gamma$ συναρτήσει της πλευράς $B\Gamma = a$.

(γ) Να αποδείξετε ότι το τρίγωνο $A\Gamma\Delta$ είναι ισοσκελές.





ΕΠΙΤΡΟΠΗ ΔΙΑΓΩΝΙΣΜΩΝ
69^{ος} ΠΑΝΕΛΛΗΝΙΟΣ ΜΑΘΗΤΙΚΟΣ ΔΙΑΓΩΝΙΣΜΟΣ
ΣΤΑ ΜΑΘΗΜΑΤΙΚΑ “Ο ΘΑΛΗΣ”
ΣΑΒΒΑΤΟ, 1 ΝΟΕΜΒΡΙΟΥ 2008

Γ΄ ΓΥΜΝΑΣΙΟΥ

1. Δίνονται οι παραστάσεις: $A = \frac{\left(-\frac{3}{2}\right)^4 \cdot 2^4 - 3^4 + x}{[1 - (-1)^{2009}]^0}$, $B = \frac{[(-2)^2 + (-1)^2]^2}{5} + \frac{x}{2}$.

Αν είναι $A = B$, να προσδιορίσετε την τιμή του x .

Μονάδες 5

2. Το σημείο $A(-\lambda + 2, 4\lambda - 1)$, όπου λ θετικός ακέραιος, βρίσκεται στο πρώτο τεταρτημόριο ενός συστήματος ορθογωνίων αξόνων Oxy . Να βρεθούν:

(α) ο θετικός ακέραιος λ ,

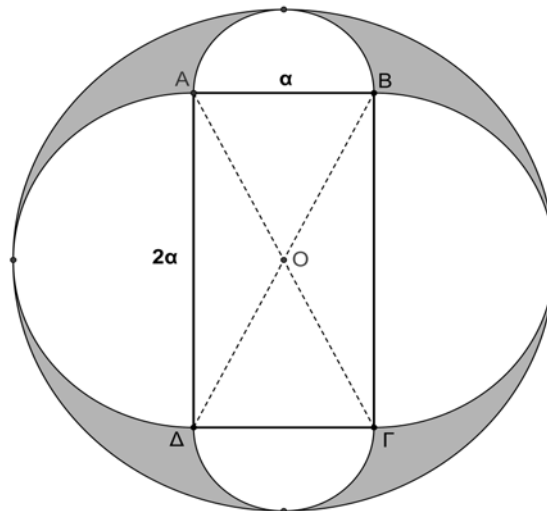
(β) το μήκος του ευθυγράμμου τμήματος OA και

(γ) το εμβαδόν του τετραπλεύρου $OBA\Gamma$, όπου B, Γ είναι τα ίχνη των καθέτων από το σημείο A στους θετικούς ημιάξονες Ox και Oy , αντίστοιχα.

Μονάδες 5

3. Στο παρακάτω σχήμα δίνονται ορθογώνιο $AB\Gamma\Delta$ με πλευρές $AB = \alpha$, $A\Delta = 2\alpha$ και τέσσερα ημικύκλια εξωτερικά του ορθογωνίου. Ο εξωτερικός κύκλος έχει κέντρο το σημείο τομής O των διαγωνίων του ορθογωνίου. Να υπολογιστεί συναρτήσει του α το εμβαδόν του γραμμοσκιασμένου χωρίου.

Μονάδες 5



4. Αν ισχύει $\frac{45^v \cdot 2^{2v}}{6^v} = 900$, όπου v θετικός ακέραιος, να βρεθεί η τιμή της παράστασης

$$A = 2003 \cdot (-1)^v - (-1)^{v+1} + 4 \cdot (-1)^{v+2}.$$

Μονάδες 5

ΚΑΛΗ ΕΠΙΤΥΧΙΑ



ΕΠΙΤΡΟΠΗ ΔΙΑΓΩΝΙΣΜΩΝ
70^{ος} ΠΑΝΕΛΛΗΝΙΟΣ ΜΑΘΗΤΙΚΟΣ ΔΙΑΓΩΝΙΣΜΟΣ
ΣΤΑ ΜΑΘΗΜΑΤΙΚΑ
“Ο ΘΑΛΗΣ”
ΣΑΒΒΑΤΟ, 21 ΝΟΕΜΒΡΙΟΥ 2009

Γ΄ ΓΥΜΝΑΣΙΟΥ

ΘΕΜΑ 1^ο

Αν v είναι φυσικός αριθμός διαφορετικός από το μηδέν, να υπολογίσετε την αριθμητική τιμή της παράστασης:

$$A = 4 \cdot (-1)^v + 2 \cdot \frac{(-1)^{2v+1}}{5} - 7 \cdot \frac{(-1)^{3v}}{5}.$$

Μονάδες 5

ΘΕΜΑ 2^ο

Ο θετικός ακέραιος α είναι περιττός και όταν διαιρεθεί με το 5 αφήνει υπόλοιπο 2. Να βρείτε το τελευταίο ψηφίο του αριθμού α .

Μονάδες 5

ΘΕΜΑ 3^ο

Δίνονται δυο ευθείες $\varepsilon_1, \varepsilon_2$, οι οποίες τέμνονται στο σημείο Α. Η ευθεία ε_1 διέρχεται από την αρχή των αξόνων και έχει κλίση 4, ενώ η ευθεία ε_2 είναι παράλληλη προς την ευθεία $(\eta) : y = 2x$ και διέρχεται από το σημείο $\Gamma(0,6)$.

(α) Να βρείτε τις εξισώσεις των παραπάνω ευθειών καθώς και το κοινό τους σημείο Α.

(β) Να βρείτε το εμβαδόν του τριγώνου ΟΑΒ, όπου Ο είναι η αρχή του συστήματος ορθογωνίων αξόνων Οxy, Α είναι το κοινό σημείο των ευθειών $\varepsilon_1, \varepsilon_2$ και Β είναι το σημείο όπου η ευθεία ε_2 τέμνει τον άξονα $x'x$.

Μονάδες 5

ΘΕΜΑ 4^ο

Τρεις κύκλοι έχουν το ίδιο κέντρο Ο και ακτίνες r_1, r_2, r_3 με $0 < r_1 < r_2 < r_3$. Έστω Δ_1 ο κυκλικός δακτύλιος που ορίζεται από τους κύκλους κέντρου Ο με ακτίνες r_1, r_2 , και Δ_2 ο κυκλικός δακτύλιος που ορίζεται από τους κύκλους κέντρου Ο με ακτίνες r_2, r_3 . Αν είναι

$r_2 - r_1 = r_3 - r_2$ και $r_3 = 3r_1$, να βρείτε το λόγο $\frac{E(\Delta_1)}{E(\Delta_2)}$, όπου $E(\Delta_1)$ και $E(\Delta_2)$ είναι τα

εμβαδά των κυκλικών δακτυλίων Δ_1 και Δ_2 , αντίστοιχα.

Μονάδες 5

ΕΠΙΤΡΟΠΗ ΔΙΑΓΩΝΙΣΜΩΝ
71^{ος} ΠΑΝΕΛΛΗΝΙΟΣ ΜΑΘΗΤΙΚΟΣ ΔΙΑΓΩΝΙΣΜΟΣ
ΣΤΑ ΜΑΘΗΜΑΤΙΚΑ
“Ο ΘΑΛΗΣ”
ΣΑΒΒΑΤΟ, 30 ΟΚΤΩΒΡΙΟΥ 2010

Γ' Γυμνασίου

1. Αν $x + y = 3 \cdot (-2)^2$ και $y - w = \left[\left(-\frac{3}{5} \right)^4 \right]^6 \cdot \left[\left(-\frac{3}{5} \right)^6 \right]^{-4}$, να βρεθεί η τιμή της παράστασης:
 $A = 7x + 10y - 3w - 87$.

2. Να βρείτε έναν τετραψήφιο φυσικό αριθμό, αν γνωρίζετε ότι ισχύουν όλα τα παρακάτω:

- (α) Το ψηφίο των μονάδων του είναι πολλαπλάσιο του 4,
- (β) Το ψηφίο των δεκάδων του είναι το μισό του ψηφίου των μονάδων του,
- (γ) Το ψηφίο των εκατοντάδων του είναι διαιρέτης του 5,
- (δ) Το ψηφίο των χιλιάδων του είναι ίσο με το ψηφίο των εκατοντάδων του μειωμένο κατά 1.

3. Δίνεται τρίγωνο $AB\Gamma$ με $\hat{A} = 120^\circ$. Στο εσωτερικό της γωνίας A φέρουμε ημιευθείες Ax και Ay κάθετες στις πλευρές $A\Gamma$ και AB , αντίστοιχα που τέμνουν την πλευρά $B\Gamma$ στα σημεία Δ και E , αντίστοιχα. Αν $\hat{A\Delta B} = 120^\circ$, $\hat{A\hat{E}\Delta} = 60^\circ$ και το ύψος AH έχει μήκος $2\sqrt{3}$ μονάδες μήκους, τότε:

- α. Να αποδείξετε ότι το τρίγωνο $A\Delta E$ είναι ισόπλευρο.
- β. Να αποδείξετε ότι το τρίγωνο $AB\Gamma$ είναι ισοσκελές.
- γ. Να βρείτε το λόγο των περιμέτρων των τριγώνων $AB\Gamma$ και $A\Delta E$.

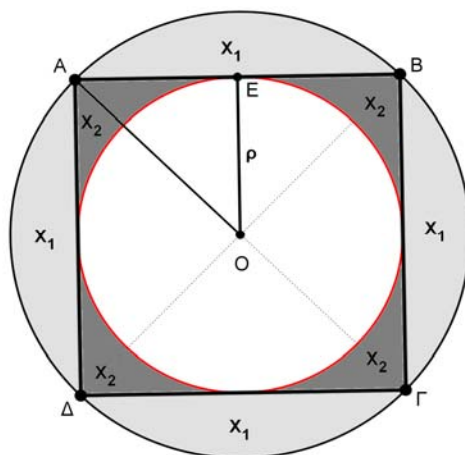
4. Στο παρακάτω σχήμα το τετράγωνο $AB\Gamma\Delta$ έχει πλευρά 2ρ . Ονομάζουμε X_1 το χωρίο που αποτελείται από τα τέσσερα κυκλικά τμήματα του κύκλου $C(O, OA)$ που ορίζονται από τις χορδές AB , $B\Gamma$, $\Gamma\Delta$ και ΔA . Επίσης ονομάζουμε X_2 το χωρίο που βρίσκεται εξωτερικά του κύκλου $C(O, \rho)$ και εσωτερικά του τετραγώνου $AB\Gamma\Delta$.

α. Να βρείτε το εμβαδόν του κυκλικού δακτυλίου $\Delta(O, \rho, OA)$ που ορίζεται από τους κύκλους $C(O, \rho)$ και $C(O, OA)$.

β. Να αποδείξετε ότι τα εμβαδά $E(X_1)$ και $E(X_2)$ των χωρίων X_1 και X_2 , αντίστοιχα, έχουν λόγο $\frac{E(X_1)}{E(X_2)}$

μεγαλύτερο του $\frac{13}{5}$.

γ. Να προσδιορίσετε την ακτίνα x του κύκλου $C(O, x)$ που χωρίζει τον κυκλικό δακτύλιο $\Delta(O, \rho, OA)$ σε δύο κυκλικούς δακτύλιους ίσου εμβαδού.



Κάθε θέμα βαθμολογείται με 5 μονάδες

ΚΑΛΗ ΕΠΙΤΥΧΙΑ



ΕΠΙΤΡΟΠΗ ΔΙΑΓΩΝΙΣΜΩΝ
72^{ος} ΠΑΝΕΛΛΗΝΙΟΣ ΜΑΘΗΤΙΚΟΣ ΔΙΑΓΩΝΙΣΜΟΣ
ΣΤΑ ΜΑΘΗΜΑΤΙΚΑ
“Ο ΘΑΛΗΣ”
19 Νοεμβρίου 2011

Γ΄ ΓΥΜΝΑΣΙΟΥ

Πρόβλημα 1

Αν $\alpha = 10^{-1} : 10^{-3}$, $\beta = 10^{-5} : 10^{-7}$ και $\gamma = 10^{-1} \cdot 1000$ να βρείτε την τιμή της παράστασης:

$$A = \left(\frac{6\alpha\beta\gamma}{\alpha\beta + \beta\gamma + \gamma\alpha} \right)^{-2}$$

Πρόβλημα 2

Να βρεθούν οι ακέραιοι που επαληθεύουν και τις δύο ανισώσεις:

$$\frac{x}{2} - \frac{x-5}{4} \leq 2 \quad \text{και} \quad \frac{\frac{x}{2}-3}{4} - \frac{2x-9}{8} \leq x.$$

Πρόβλημα 3

Στο ορθοκανονικό σύστημα συντεταγμένων Oxy δίνεται ότι η ευθεία (ε) με εξίσωση $y = (3\lambda - 1)x + 2\mu$, όπου λ, μ πραγματικοί αριθμοί, είναι παράλληλη με την ευθεία (δ) με εξίσωση $y = 2\lambda x$ και περνάει από το σημείο $K(2, 8)$.

(α) Να βρείτε τους πραγματικούς αριθμούς λ και μ .

(β) Να επαληθεύσετε ότι τα σημεία $\Lambda(-4, -4)$ και $M(-1, 2)$ ανήκουν στην ευθεία (ε) και να αποδείξετε ότι το σημείο M είναι το μέσον του ευθύγραμμου τμήματος $K\Lambda$.

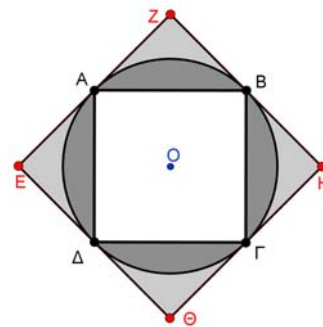
Πρόβλημα 4

Στο διπλανό σχήμα τα τετράπλευρα $AB\Gamma\Delta$ και $EZH\Theta$ είναι τετράγωνα. Το τετράγωνο $EZH\Theta$ έχει πλευρές που εφάπτονται του κύκλου $C(O, \rho)$ στα σημεία A, B, Γ και Δ .

(α) Να βρείτε το άθροισμα Σ_1 των εμβαδών των τεσσάρων χωρίων που βρίσκονται εσωτερικά του κύκλου $C(O, \rho)$ και εξωτερικά του τετραγώνου $AB\Gamma\Delta$.

(β) Να βρείτε το άθροισμα Σ_2 των εμβαδών των τεσσάρων χωρίων που βρίσκονται εσωτερικά του τετραγώνου $EZH\Theta$ και εξωτερικά του κύκλου $C(O, \rho)$.

(γ) Να αποδείξετε ότι $\frac{\Sigma_1}{\Sigma_2} < \frac{4}{3}$. (Θεωρείστε ότι $\pi = 3,1415$).



Κάθε θέμα βαθμολογείται με 5 μονάδες
Διάρκεια διαγωνισμού: 3 ώρες

Καλή επιτυχία!



ΕΠΙΤΡΟΠΗ ΔΙΑΓΩΝΙΣΜΩΝ
73^{ος} ΠΑΝΕΛΛΗΝΙΟΣ ΜΑΘΗΤΙΚΟΣ ΔΙΑΓΩΝΙΣΜΟΣ
ΣΤΑ ΜΑΘΗΜΑΤΙΚΑ
“Ο ΘΑΛΗΣ”
20 Οκτωβρίου 2012

Γ΄ ΓΥΜΝΑΣΙΟΥ

Πρόβλημα 1

Να υπολογίσετε την τιμή της παράστασης

$$K = \frac{x^2 \cdot y^4 \cdot z^6 \cdot 2^{182}}{3 \cdot (13 \cdot 2^2 \cdot 3^3 + 4^2 \cdot 9^3)^{-1}}, \text{ αν είναι } x = 2^{-10}, y = 4^{-8}, z = 8^{-6},$$

και να αποδείξετε ότι είναι τέλειο τετράγωνο ρητού αριθμού.

Πρόβλημα 2

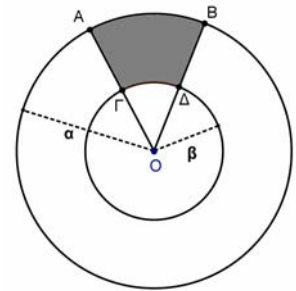
Να βρείτε για ποιες τιμές του πραγματικού αριθμού α οι αριθμοί 3 και -3 είναι λύσεις της ανίσωσης

$$4x - 5\alpha + 2 < \alpha(x - 3) + 2(\alpha - 1).$$

Πρόβλημα 3

Αν το εμβαδόν E του χωρίου $AB\Delta\Gamma$ του διπλανού σχήματος ισούται με το $\frac{1}{12}$ του εμβαδού του κυκλικού δακτυλίου που ορίζεται από τους κύκλους (O, α) και (O, β) , $0 < \beta < \alpha$, να βρείτε τη γωνία $\omega = \hat{A}\hat{O}\hat{B}$ και την τιμή της παράστασης:

$$\Sigma = \left(2\eta\mu^2\omega - \frac{3}{4}\sigma\upsilon\nu 2\omega \right)^3.$$



Πρόβλημα 4

Δίνεται ορθογώνιο $AB\Gamma\Delta$ με $A\Delta = \alpha$ cm και $AB < A\Delta$. Η κάθετη από την κορυφή B προς τη διαγώνιο $A\Gamma$ την τέμνει στο σημείο E . Αν ισχύει ότι $E\Gamma = 2 \cdot AE$, να βρείτε:

- (i) το μήκος της πλευράς AB .
- (ii) Το εμβαδόν του κύκλου που περνάει και από τις τέσσερις κορυφές του ορθογωνίου $AB\Gamma\Delta$.

Κάθε θέμα βαθμολογείται με 5 μονάδες
Διάρκεια διαγωνισμού: 3 ώρες

Καλή επιτυχία!



ΕΠΙΤΡΟΠΗ ΔΙΑΓΩΝΙΣΜΩΝ
74^{ος} ΠΑΝΕΛΛΗΝΙΟΣ ΜΑΘΗΤΙΚΟΣ ΔΙΑΓΩΝΙΣΜΟΣ
ΣΤΑ ΜΑΘΗΜΑΤΙΚΑ
“Ο ΘΑΛΗΣ”
19 Οκτωβρίου 2013

Γ΄ ΓΥΜΝΑΣΙΟΥ

Πρόβλημα 1

Αν ο πραγματικός αριθμός α είναι η μικρότερη δεκαδική προσέγγιση δέκατου του άρρητου αριθμού $\sqrt{5}$, να βρείτε την αριθμητική τιμή της παράστασης:

$$A = 3 \cdot (3\alpha - 4,6) - 2 \cdot (\alpha - 0,2).$$

Πρόβλημα 2

Αν ο θετικός ακέραιος β ικανοποιεί τις ανισώσεις

$$-4 < 1 - 2\beta < 5,$$

να λύσετε ως προς άγνωστο x την ανίσωση:

$$2(x+1) - \frac{3}{2}(x+1) < \frac{x}{\beta}.$$

Πρόβλημα 3

Στο ορθοκανονικό σύστημα αναφοράς $\chi O \psi$ μια ευθεία (ε) σχηματίζει με τον άξονα $\chi' \chi$ γωνία 45° και επίσης διέρχεται από το σημείο $M(2, -6)$. Το σημείο A ανήκει στον άξονα $\chi' \chi$ και στην ευθεία (ε) , ενώ το σημείο B ανήκει στον άξονα $\psi' \psi$ και στην ευθεία (ε) .

(α) Βρείτε την εξίσωση της ευθείας (ε) .

(β) Βρείτε τις συντεταγμένες των σημείων A, B και το εμβαδόν του τριγώνου OAB.

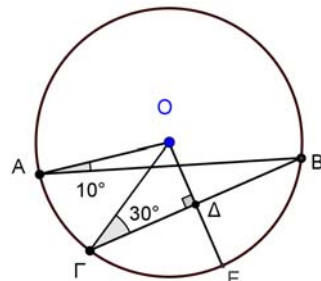
(γ) Βρείτε το εμβαδόν του τριγώνου OAM.

Πρόβλημα 4

Σε κύκλο $c(O, R)$ (κέντρου O και ακτίνας R) δίνονται σημεία A, Γ και B τέτοια ώστε $\widehat{OAB} = 10^\circ$ και $\widehat{O\Gamma B} = 30^\circ$. Τα σημεία A και Γ βρίσκονται στο ίδιο ημιεπίπεδο ως προς την ευθεία OB. Από το σημείο O φέρουμε ευθεία κάθετη προς τη χορδή ΓB που την τέμνει στο σημείο Δ, ενώ τέμνει τον κύκλο $c(O, R)$ στο σημείο E.

(α) Βρείτε το μέτρο της γωνίας $\widehat{AB\Gamma}$ και το μέτρο του τόξου $\widehat{A\Gamma}$ σε μοίρες.

(β) Να αποδείξετε ότι το τετράπλευρο OBEΓ είναι ρόμβος και να υπολογίσετε το εμβαδό του.



Κάθε θέμα βαθμολογείται με 5 μονάδες
Διάρκεια διαγωνισμού: 3 ώρες

Καλή επιτυχία!



ΕΠΙΤΡΟΠΗ ΔΙΑΓΩΝΙΣΜΩΝ
75^{ος} ΠΑΝΕΛΛΗΝΙΟΣ ΜΑΘΗΤΙΚΟΣ ΔΙΑΓΩΝΙΣΜΟΣ
ΣΤΑ ΜΑΘΗΜΑΤΙΚΑ
“Ο ΘΑΛΗΣ”
1 Νοεμβρίου 2014
Γ΄ ΓΥΜΝΑΣΙΟΥ

Πρόβλημα 1

Να βρείτε την τιμή της παράστασης $A = \frac{x^4 - 1}{(x^2 + 1)(x^2 - 3)} - \frac{6}{13}$, αν $x = \left(-\frac{3}{4}\right)^{-2}$.

Πρόβλημα 2

Το πλήθος των μαθητών σε ένα Γυμνάσιο είναι τουλάχιστον 170 και το πολύ 230. Αν γνωρίζουμε ότι ακριβώς το 4% των μαθητών παίζουν βιολί και ότι το $\frac{1}{3}$ από αυτούς που παίζουν βιολί, παίζει και πιάνο, να βρείτε το πλήθος των μαθητών του Γυμνασίου.

Πρόβλημα 3

Δίνεται ισόπλευρο τρίγωνο $AB\Gamma$ πλευράς α . Προεκτείνουμε την πλευρά $A\Gamma$ κατά τμήμα $\Gamma\Delta = \frac{\alpha}{2}$ και στη συνέχεια προεκτείνουμε την πλευρά $B\Gamma$ κατά τμήμα $\Gamma Z = \alpha\Delta$. Αν $E(AB\Delta)$ και $E(AB\Delta Z)$ είναι το εμβαδόν του τριγώνου $AB\Delta$ και του τετραπλεύρου $AB\Delta Z$, αντίστοιχα, να βρείτε το λόγο $\frac{E(AB\Delta)}{E(AB\Delta Z)}$.

Πρόβλημα 4

Ένα διαμάντι Δ κόβεται σε δύο κομμάτια Δ_1 και Δ_2 με βάρη $\beta(\Delta_1)$ και $\beta(\Delta_2)$, αντίστοιχα, και λόγο βαρών $\frac{\beta(\Delta_1)}{\beta(\Delta_2)} = \frac{3}{7}$. Δίνεται ότι η αξία ενός διαμαντιού είναι ευθέως ανάλογη προς το τετράγωνο του βάρους του. Να προσδιορίσετε πόσο επί τις εκατό μειώθηκε η αξία του διαμαντιού Δ μετά την κοπή του στα δύο κομμάτια Δ_1 και Δ_2 .

*Κάθε θέμα βαθμολογείται με 5 μονάδες
Διάρκεια διαγωνισμού: 3 ώρες*

Καλή επιτυχία

Θέματα Θαλή
της Α' Λυκείου

2006 εως 2015

από τον parmenides51

σχολικό έτος αριθμηση / ημερομηνία ονομασία

Διαγωνισμός Θαλής

2006-2007	67 ^{ος} / 09-12-2006	Θαλής 2006
2007-2008	68 ^{ος} / 24-11-2007	Θαλής 2007
2008-2009	69 ^{ος} / 01-11-2008	Θαλής 2008
2009-2010	70 ^{ος} / 21-11-2009	Θαλής 2009
2010-2011	71 ^{ος} / 30-10-2010	Θαλής 2010
2011-2012	72 ^{ος} / 19-11-2011	Θαλής 2011
2012-2013	73 ^{ος} / 20-10-2012	Θαλής 2012
2013-2014	74 ^{ος} / 19-10-2013	Θαλής 2013
2014-2015	75 ^{ος} / 01-11-2014	Θαλής 2014

Για ευκολία χρησιμοποιήστε τους σελιδοδείκτες (bookmarks) στο αριστερό μέρος του pdf.



ΕΠΙΤΡΟΠΗ ΔΙΑΓΩΝΙΣΜΩΝ
67^{ος} ΠΑΝΕΛΛΗΝΙΟΣ ΜΑΘΗΤΙΚΟΣ ΔΙΑΓΩΝΙΣΜΟΣ
ΣΤΑ ΜΑΘΗΜΑΤΙΚΑ
“Ο ΘΑΛΗΣ”
ΣΑΒΒΑΤΟ, 9 ΔΕΚΕΜΒΡΙΟΥ 2006

Α΄ τάξη Λυκείου

1. Η Α΄ τάξη ενός Λυκείου έχει 5 τμήματα που το καθένα έχει τουλάχιστον 20 μαθητές. Σε καθένα από τους μαθητές των τμημάτων αυτών δίνουμε 10 €. Έτσι δώσαμε 1090€. Να αποδείξετε ότι δύο τουλάχιστον από τα τμήματα αυτά έχουν τον ίδιο αριθμό μαθητών.

2. Να λυθεί η εξίσωση $\lambda(\lambda x + 3) = \lambda^3 + 2\lambda x - 2$
για τις διαφορές πραγματικές τιμές της παραμέτρου λ .

3. Αν α, β, γ πραγματικοί αριθμοί διάφοροι του μηδενός να αποδείξετε ότι:

$$\left(\frac{\alpha}{\beta} + \frac{\beta}{\gamma} + \frac{\gamma}{\alpha}\right)^2 \geq 3\left(\frac{\alpha}{\gamma} + \frac{\gamma}{\beta} + \frac{\beta}{\alpha}\right)$$

4. Σε τρίγωνο ΑΒΓ με $\hat{A} > \hat{B}$ οι διχοτόμοι των γωνιών \hat{A} , \hat{B} τέμνονται στο Ι. Στην πλευρά ΑΒ παίρνουμε τμήμα ΒΔ = ΒΓ – ΑΓ. Να αποδείξετε ότι : ΙΔ = ΙΑ.



ΕΠΙΤΡΟΠΗ ΔΙΑΓΩΝΙΣΜΩΝ
68^{ος} ΠΑΝΕΛΛΗΝΙΟΣ ΜΑΘΗΤΙΚΟΣ ΔΙΑΓΩΝΙΣΜΟΣ
ΣΤΑ ΜΑΘΗΜΑΤΙΚΑ
“Ο ΘΑΛΗΣ”
ΣΑΒΒΑΤΟ, 24 ΝΟΕΜΒΡΙΟΥ 2007

Α΄ τάξη Λυκείου

Πρόβλημα 1

Δύο παιδιά συζητούν για αλγεβρικά προβλήματα.

Ο Γιάννης λέει στη Μαρία: Έχω σκεφτεί δύο ακέραιους αριθμούς x και y που είναι τέτοιοι ώστε, αν μειώσω τον x κατά 50 και αυξήσω τον y κατά 40, τότε το γινόμενο τους δεν μεταβάλλεται.

Η Μαρία ρωτάει το Γιάννη: Αν αυξήσεις τον αριθμό x κατά 100 και μειώσεις τον αριθμό y κατά 20, τότε πάλι το γινόμενο τους δεν μεταβάλλεται;

Ο Γιάννης απαντάει: Πράγματι, αυτό ισχύει.

Η Μαρία καταλήγει: Τότε γνωρίζω τους αριθμούς που σκέφθηκες.

Έχει δίκιο η Μαρία; Εσείς μπορείτε να βρείτε τους αριθμούς που σκέφθηκε ο Γιάννης;

Πρόβλημα 2

Αν $\alpha, \beta, \gamma \in \mathbb{R}$ με $(\alpha - \beta)(\beta - \gamma)(\gamma - \alpha) \neq 0$ τότε να υπολογίσετε την τιμή της παράστασης:

$$A = \frac{(\alpha - 1)(\alpha + 1)}{(\alpha - \beta)(\alpha - \gamma)} + \frac{(\beta - 1)(\beta + 1)}{(\beta - \alpha)(\beta - \gamma)} + \frac{(\gamma - 1)(\gamma + 1)}{(\gamma - \alpha)(\gamma - \beta)}$$

Πρόβλημα 3

Θεωρούμε ισοσκελές τρίγωνο $AB\Gamma$ με $AB = A\Gamma$ και $\hat{A} = 45^\circ$. Φέρουμε ευθεία ε κάθετη προς την $A\Gamma$ στο A η οποία τέμνει την προέκταση της ΓB στο E . Πάνω στην ευθεία ε παίρνουμε σημείο Δ τέτοιο ώστε $A\Delta = A\Gamma$ με το σημείο A να βρίσκεται μεταξύ των E και Δ . Να υπολογίσετε συναρτήσει της πλευράς $A\Gamma = \beta$:

- (α) το εμβαδόν του τετραπλεύρου $AB\Gamma\Delta$,
- (β) το μήκος του ευθύγραμμου τμήματος AE .

Πρόβλημα 4

Να βρεθούν οι θετικοί ακέραιοι αριθμοί x, y που ικανοποιούν τη σχέση:

$$x^6 + 2x^3y^2 + 3x^3 + y^4 + 3y^2 - 40 = 0$$



ΕΠΙΤΡΟΠΗ ΔΙΑΓΩΝΙΣΜΩΝ
69^{ος} ΠΑΝΕΛΛΗΝΙΟΣ ΜΑΘΗΤΙΚΟΣ ΔΙΑΓΩΝΙΣΜΟΣ
ΣΤΑ ΜΑΘΗΜΑΤΙΚΑ
“Ο ΘΑΛΗΣ”
ΣΑΒΒΑΤΟ, 1 ΝΟΕΜΒΡΙΟΥ 2008

Α΄ ΛΥΚΕΙΟΥ

1. Αν στο $\frac{1}{8}$ ενός αριθμού x προσθέσουμε το $\frac{1}{4}$ του αριθμού αυτού προκύπτει αριθμός μικρότερος κατά 1255 του αριθμού x . Να βρεθεί ο αριθμός x .

Μονάδες 5

2. Να προσδιορίσετε τους ακέραιους x, y και z που είναι τέτοιοι ώστε $0 \leq x \leq y \leq z$ και $xyz + xy + yz + zx + x + y + z = 44$.

Μονάδες 5

3. Να βρεθούν οι γωνίες των ισοσκελών τριγώνων τα οποία έχουν τη παρακάτω ιδιότητα: “υπάρχει ευθύγραμμο τμήμα που συνδέει μία κορυφή με την απέναντι πλευρά ώστε να δημιουργούνται μέσα στο ισοσκελές τρίγωνο, δύο ισοσκελή τρίγωνα”.
(Να εξετάσετε όλες τις δυνατές περιπτώσεις).

Μονάδες 5

4. Αν οι πραγματικοί αριθμοί ικανοποιούν τις ισότητες
 $x^2 - y = z^2, y^2 - z = x^2, z^2 - x = y^2,$

να αποδείξετε ότι:

(α) $x^3 + y^3 + z^3 = 3xyz$.

(β) Ένας τουλάχιστον από τους x, y, z ισούται με 0.

Μονάδες 5

ΚΑΛΗ ΕΠΙΤΥΧΙΑ



ΕΠΙΤΡΟΠΗ ΔΙΑΓΩΝΙΣΜΩΝ
70^{ος} ΠΑΝΕΛΛΗΝΙΟΣ ΜΑΘΗΤΙΚΟΣ ΔΙΑΓΩΝΙΣΜΟΣ
ΣΤΑ ΜΑΘΗΜΑΤΙΚΑ
“Ο ΘΑΛΗΣ”
ΣΑΒΒΑΤΟ, 21 ΝΟΕΜΒΡΙΟΥ 2009

Α΄ ΛΥΚΕΙΟΥ

ΘΕΜΑ 1^ο

Το τετράγωνο ενός θετικού αριθμού είναι μεγαλύτερο από το δεκαπλάσιο του αριθμού κατά 75. Να βρεθεί ο αριθμός.

Μονάδες 5

ΘΕΜΑ 2^ο

Αν οι αριθμοί μ, ν είναι θετικοί ακέραιοι και ισχύει ότι

$$4^{\mu-2} + 4^{\nu+2} \leq 2^{\mu+\nu+1},$$

να αποδείξετε ότι ο ακέραιος $A = 2^\mu + 2^\nu$ είναι πολλαπλάσιο του 34.

Μονάδες 5

ΘΕΜΑ 3^ο

Δίνεται τρίγωνο ΑΒΓ και έστω ΑΔ ύψος του.

(α) Αν υπάρχουν σημεία Ε και Ζ πάνω στις πλευρές ΑΒ και ΑΓ, αντίστοιχα, τέτοια ώστε να ισχύουν $\Delta E = \Delta Z$ και $A\hat{\Delta}E = A\hat{\Delta}Z$, να αποδείξετε ότι το τρίγωνο ΑΒΓ είναι ισοσκελές.

(β) Αν υπάρχουν σημεία Ε και Ζ στις προεκτάσεις των πλευρών ΒΑ και ΓΑ (προς το μέρος του Α), αντίστοιχα, τέτοια ώστε να ισχύουν $\Delta E = \Delta Z$ και $A\hat{\Delta}E = A\hat{\Delta}Z$, να αποδείξετε ότι το τρίγωνο ΑΒΓ είναι ισοσκελές.

Μονάδες 5

ΘΕΜΑ 4^ο.

Μία βρύση Α γεμίζει (λειτουργώντας μόνη της) μία δεξαμενή σε τρεις ώρες. Μία δεύτερη βρύση Β γεμίζει (λειτουργώντας μόνη της) την ίδια δεξαμενή σε τέσσερις ώρες. Μία τρίτη τέλος βρύση Γ αδειάζει (λειτουργώντας μόνη της) την ίδια δεξαμενή, όταν βέβαια είναι γεμάτη, σε έξι ώρες. Ένας αυτόματος μηχανισμός ανοίγει με τυχαία σειρά και τις τρεις βρύσες με τον εξής τρόπο: ανοίγει μία βρύση, μετά από δύο ώρες ανοίγει μία άλλη και τέλος μετά από μία ώρα ανοίγει και την άλλη βρύση. Ένας άλλος μηχανισμός μετρά το χρόνο που χρειάζεται να γεμίσει η δεξαμενή και ξεκινά τη λειτουργία του μόλις πέσει νερό μέσα στη δεξαμενή. Ποια είναι εκείνη η σειρά με την οποία, αν ανοίξει τις βρύσες ο μηχανισμός, ο αριθμός των ωρών που θα χρειαστούν για να γεμίσει η δεξαμενή θα είναι ακέραιος αριθμός; Ποιος είναι σε κάθε περίπτωση αυτός ο ακέραιος αριθμός;

Μονάδες 5

ΚΑΛΗ ΕΠΙΤΥΧΙΑ



ΕΠΙΤΡΟΠΗ ΔΙΑΓΩΝΙΣΜΩΝ
71^{ος} ΠΑΝΕΛΛΗΝΙΟΣ ΜΑΘΗΤΙΚΟΣ ΔΙΑΓΩΝΙΣΜΟΣ
ΣΤΑ ΜΑΘΗΜΑΤΙΚΑ
“Ο ΘΑΛΗΣ”
ΣΑΒΒΑΤΟ, 30 ΟΚΤΩΒΡΙΟΥ 2010

Α΄ Λυκείου

1. Να προσδιορίσετε τους ακέραιους που είναι λύσεις του συστήματος εξίσωσης-ανίσωσης

$$x^2 - 5x = 14, \quad \frac{x-1}{2} + \frac{x^2-1}{4} < \frac{x(x-1)}{4}.$$

2. Αν α, β, γ είναι πραγματικοί αριθμοί, με κατάλληλο χωρισμό των όρων της σε ομάδες, να παραγοντοποιήσετε την παράσταση:

$$A = \alpha^4 + 2\alpha^3\beta + \alpha^2\beta^2 - \alpha^2\beta^2\gamma^2 - 2\alpha\beta^3\gamma^2 - \beta^4\gamma^2 - \alpha^2\gamma^2 + \beta^2\gamma^4.$$

3. Να λύσετε το σύστημα:

$$\frac{x}{2} - 1 = \frac{4}{y}, \quad \frac{x-1}{2} - \frac{2}{3y} = \frac{5}{3} + \frac{x}{3}.$$

4. Δίνεται ισοσκελές τρίγωνο $AB\Gamma$ με $AB = A\Gamma$ και το ύψος του $A\Delta$. Από τυχόν σημείο E του ύψους $A\Delta$ θεωρούμε ευθεία (ε) παράλληλη στη $B\Gamma$. Πάνω στην ευθεία (ε) θεωρούμε δύο διαφορετικά μεταξύ τους σημεία M, N έτσι ώστε $EM = EN$ και $MB < M\Gamma$. Να αποδείξετε ότι τα ευθύγραμμα τμήματα $M\Gamma$ και NB τέμνονται πάνω στο ύψος $A\Delta$.

Κάθε θέμα βαθμολογείται με 5 μονάδες

ΚΑΛΗ ΕΠΙΤΥΧΙΑ



ΕΠΙΤΡΟΠΗ ΔΙΑΓΩΝΙΣΜΩΝ
72^{ος} ΠΑΝΕΛΛΗΝΙΟΣ ΜΑΘΗΤΙΚΟΣ ΔΙΑΓΩΝΙΣΜΟΣ
ΣΤΑ ΜΑΘΗΜΑΤΙΚΑ
“Ο ΘΑΛΗΣ”
19 Νοεμβρίου 2011

Α΄ ΛΥΚΕΙΟΥ

Πρόβλημα 1

Να βρείτε τις ακέραιες λύσεις του συστήματος:

$$\left\{ \begin{array}{l} (x-10)(x^2-7x+10)=0 \\ \frac{x^2+1}{2} + \frac{2x-1}{5} < \frac{x(x+1)}{2} \end{array} \right.$$

Πρόβλημα 2

Να απλοποιηθεί η παράσταση:

$$A(x) = \frac{1+x^4+(1+x)^3+x(1+x)^3}{1+x^2+(1+x)^2} - \frac{2(1+x^3)+(1+x)^3}{3(x^2+1)}$$

Πρόβλημα 3

(α) Αν κ ακέραιος, να λύσετε την εξίσωση:

$$\frac{\kappa x}{2} + \frac{x}{4} = \kappa(x+2) - \frac{3(\kappa x-1)}{4}.$$

(β) Για ποιες τιμές του ακέραιου κ η παραπάνω εξίσωση έχει ακέραιες λύσεις;

Πρόβλημα 4

Δίνεται οξυγώνιο ισοσκελές τρίγωνο $AB\Gamma$ ($AB=AG$). Κύκλος με κέντρο την κορυφή A και ακτίνα $\rho < AB$ τέμνει τις πλευρές AB και AG στα σημεία E και Δ , αντίστοιχα. Οι ευθείες $B\Delta$, ΓE τέμνουν για δεύτερη φορά το κύκλο στα σημεία K , N αντίστοιχα. Αν T είναι το σημείο τομής των $B\Delta$, ΓE και S το σημείο τομής των ΔN , $E K$, να αποδείξετε ότι τα σημεία A , S και T βρίσκονται επάνω στην ίδια ευθεία.

*Κάθε θέμα βαθμολογείται με 5 μονάδες
Διάρκεια διαγωνισμού: 3 ώρες*

Καλή επιτυχία!



ΕΠΙΤΡΟΠΗ ΔΙΑΓΩΝΙΣΜΩΝ
73^{ος} ΠΑΝΕΛΛΗΝΙΟΣ ΜΑΘΗΤΙΚΟΣ ΔΙΑΓΩΝΙΣΜΟΣ
ΣΤΑ ΜΑΘΗΜΑΤΙΚΑ
“Ο ΘΑΛΗΣ”
20 Οκτωβρίου 2012

Α΄ ΛΥΚΕΙΟΥ

Πρόβλημα 1

Να βρεθούν οι ακέραιοι x που είναι ρίζες της εξίσωσης $x(x-2) = 24$ και το τετράγωνό τους δεν είναι μεγαλύτερο του 25.

Πρόβλημα 2

Να απλοποιηθεί η παράσταση:

$$K(\alpha, \beta) = \frac{\alpha^3 + \beta^3 - \alpha^2 + \beta^2 + (\alpha\beta + \beta^2)(\alpha - 2\beta)}{(\alpha + \beta)^2 - \alpha - \beta},$$

αν $\alpha + \beta \neq 0$ και $\alpha + \beta \neq 1$.

Πρόβλημα 3

Δίνεται η εξίσωση

$$x^2 + 2\lambda x + \lambda^2 - 1 = 0.$$

Να βρείτε τις τιμές της παραμέτρου λ για τις οποίες η εξίσωση έχει δύο ρίζες μεγαλύτερες του -5 και μικρότερες του 2 και το άθροισμα των τετραγώνων τους είναι ίσο με 20.

Πρόβλημα 4

Δίνεται ισοσκελές τρίγωνο $AB\Gamma$ με $B\Gamma = \alpha$ και $AB = A\Gamma = 2\alpha$. Η παράλληλη ευθεία από την κορυφή Γ προς την πλευρά AB τέμνει την ευθεία της διχοτόμου $B\Delta$ στο σημείο E . Η ευθεία AE τέμνει την ευθεία $B\Gamma$ στο σημείο Z . Να αποδείξετε ότι το τρίγωνο ABZ είναι ισοσκελές.

*Κάθε θέμα βαθμολογείται με 5 μονάδες
Διάρκεια διαγωνισμού: 3 ώρες*

Καλή επιτυχία!

ΕΛΛΗΝΙΚΗ ΜΑΘΗΜΑΤΙΚΗ ΕΤΑΙΡΕΙΑ
Πανεπιστημίου (Ελευθερίου Βενιζέλου) 34
106 79 ΑΘΗΝΑ
Τηλ. 3616532 - 3617784 - Fax: 3641025
e-mail : info@hms.gr
www.hms.gr



GREEK MATHEMATICAL SOCIETY
34, Panepistimiou (Eleftheriou Venizelou) Street
GR. 106 79 - Athens - HELLAS
Tel. 3616532 - 3617784 - Fax: 3641025
e-mail : info@hms.gr
www.hms.gr

ΕΠΙΤΡΟΠΗ ΔΙΑΓΩΝΙΣΜΩΝ
74^{ος} ΠΑΝΕΛΛΗΝΙΟΣ ΜΑΘΗΤΙΚΟΣ ΔΙΑΓΩΝΙΣΜΟΣ
ΣΤΑ ΜΑΘΗΜΑΤΙΚΑ
“Ο ΘΑΛΗΣ”
19 Οκτωβρίου 2013

Α΄ ΛΥΚΕΙΟΥ

Πρόβλημα 1

Αν τα συστήματα

$$(\Sigma_1) \begin{cases} \frac{1}{x} + \frac{1}{y} = \frac{1}{4} \\ \frac{3}{x} + \frac{4}{y} = \frac{1}{2} \end{cases} \quad \text{και} \quad (\Sigma_2) \begin{cases} \alpha x + \beta y = 4 \\ 2\alpha x + 3\beta y = -8 \end{cases}$$

έχουν την ίδια λύση (x, y) , να βρείτε την τιμή των παραμέτρων α και β .

Πρόβλημα 2

Για τους θετικούς πραγματικούς αριθμούς x, y και z ισχύει ότι:

$$z = 2(x + y) \quad \text{και} \quad z = 3(x - y).$$

(α) Να αποδείξετε ότι: $y < x < z$.

(β) Να βρείτε την τριάδα (x, y, z) για την οποία: $x^2 + y^2 + z^2 = 680$.

Πρόβλημα 3

Να βρεθούν οι ακέραιοι x για τους οποίους οι αριθμοί $A = 8x + 1$ και $B = 2x - 3$ είναι και οι δύο τέλεια τετράγωνα ακεραίων.

Πρόβλημα 4

Δίνεται ισοσκελές τρίγωνο $AB\Gamma$ με $AB = A\Gamma$ και $\hat{A} = 20^\circ$. Θεωρούμε σημείο Δ πάνω στην πλευρά $A\Gamma$ τέτοιο ώστε $A\Delta = B\Gamma$. Από το σημείο A φέρουμε ευθύγραμμο τμήμα AE τέτοιο ώστε $AE \parallel B\Gamma$, $AE = AB$ και με τα σημεία E και Δ να βρίσκονται στο ίδιο ημιεπίπεδο ως προς την ευθεία AB . Στη συνέχεια κατασκευάζουμε το παραλληλόγραμμο $BAEZ$. Να βρείτε το μέτρο της γωνίας $B\hat{\Delta}Z$.

Κάθε θέμα βαθμολογείται με 5 μονάδες
Διάρκεια διαγωνισμού: 3 ώρες

Καλή επιτυχία!



ΕΠΙΤΡΟΠΗ ΔΙΑΓΩΝΙΣΜΩΝ
75^{ος} ΠΑΝΕΛΛΗΝΙΟΣ ΜΑΘΗΤΙΚΟΣ ΔΙΑΓΩΝΙΣΜΟΣ
ΣΤΑ ΜΑΘΗΜΑΤΙΚΑ
“Ο ΘΑΛΗΣ”
1 Νοεμβρίου 2014

Α΄ ΛΥΚΕΙΟΥ

Πρόβλημα 1

Να βρείτε την τιμή της αριθμητικής παράστασης:

$$A = \frac{2015^3 + 2013^3}{2014^2 + 4029^2} + \frac{2016^3 + 2012^3 - 18 \cdot 2014}{2014^2 + 4027^2} - \frac{4 \cdot 2014 \cdot (2014^2 + 3)(5 \cdot 2014^2 + 1)}{(5 \cdot 2014^2 + 1)^2 - (4 \cdot 2014)^2}$$

Πρόβλημα 2

Ένα βιβλίο μαθηματικών κυκλοφορεί σε 2 τόμους Α και Β. 100 αντίτυπα του τόμου Α και 120 αντίτυπα του τόμου Β κοστίζουν συνολικά 4000 ευρώ. Ένα βιβλιοπωλείο πούλησε 50 αντίτυπα του τόμου Α με έκπτωση 10% και 60 αντίτυπα του τόμου Β με έκπτωση 20% και εισέπραξε συνολικά 1680 ευρώ. Να προσδιορίσετε την τιμή πώλησης του ενός βιβλίου από κάθε τόμο.

Πρόβλημα 3

Δίνονται οι παραστάσεις:

$$A = (x^2 + y^2 + xy)^2 \quad \text{και} \quad B = 2 \left[(x^2 + y^2 + 2xy)^2 + x^4 + y^4 \right],$$

όπου x, y είναι ρητοί.

(α) Να γράψετε την παράσταση Α ως πολυώνυμο των μεταβλητών x, y διατεταγμένο ως προς τις φθίνουσες δυνάμεις του x .

(β) Να αποδείξετε ότι ο αριθμός \sqrt{B} είναι ρητός, για οποιαδήποτε τιμή των ρητών αριθμών x, y .

Πρόβλημα 4

Θεωρούμε τετράπλευρο $ABCD$ με τη γωνία $\hat{A} = 100^\circ$ και $\hat{D} = 40^\circ$. Αν DB είναι διχοτόμος της γωνίας \hat{CDA} και $DB = DC$, να υπολογισθεί το μέτρο της γωνίας \hat{CAB} .

Κάθε θέμα βαθμολογείται με 5 μονάδες
Διάρκεια διαγωνισμού: 3 ώρες

Καλή επιτυχία!

Θέματα Θαλή
της Β' Λυκείου

2006 εως 2015

από τον parmenides51

σχολικό έτος αριθμηση / ημερομηνία ονομασία

Διαγωνισμός Θαλής

2006-2007	67 ^{ος} / 09-12-2006	Θαλής 2006
2007-2008	68 ^{ος} / 24-11-2007	Θαλής 2007
2008-2009	69 ^{ος} / 01-11-2008	Θαλής 2008
2009-2010	70 ^{ος} / 21-11-2009	Θαλής 2009
2010-2011	71 ^{ος} / 30-10-2010	Θαλής 2010
2011-2012	72 ^{ος} / 19-11-2011	Θαλής 2011
2012-2013	73 ^{ος} / 20-10-2012	Θαλής 2012
2013-2014	74 ^{ος} / 19-10-2013	Θαλής 2013
2014-2015	75 ^{ος} / 01-11-2014	Θαλής 2014

Για ευκολία χρησιμοποιήστε τους σελιδοδείκτες (bookmarks) στο αριστερό μέρος του pdf.

ΕΛΛΗΝΙΚΗ ΜΑΘΗΜΑΤΙΚΗ ΕΤΑΙΡΕΙΑ

Πανεπιστημίου (Ελευθερίου Βενιζέλου) 34

106 79 ΑΘΗΝΑ

Τηλ. 210 3616532 - 2103617784 - Fax: 210 3641025

e-mail : info@hms.gr

www.hms.gr



GREEK MATHEMATICAL SOCIETY

34, Panepistimiou (Eleftheriou Venizelou) Street

GR. 106 79 - Athens - HELLAS

Tel. 210 3616532 - 2103617784 - Fax: 210 3641025

e-mail : info@hms.gr

www.hms.gr

ΕΠΙΤΡΟΠΗ ΔΙΑΓΩΝΙΣΜΩΝ
67^{ος} ΠΑΝΕΛΛΗΝΙΟΣ ΜΑΘΗΤΙΚΟΣ ΔΙΑΓΩΝΙΣΜΟΣ
ΣΤΑ ΜΑΘΗΜΑΤΙΚΑ
“Ο ΘΑΛΗΣ”
ΣΑΒΒΑΤΟ, 9 ΔΕΚΕΜΒΡΙΟΥ 2006

Β' τάξη Λυκείου

1. Να εξετάσετε αν η εξίσωση $x^2 - (2006\kappa + 1)x + 2007 = 0$ όπου $\kappa \in \mathbb{Z}$, έχει δύο ακέραιες ρίζες.

2. Δίνεται ορθογώνιο ΑΒΓΔ με ΑΒ = 4, ΒΓ = 2 και σημείο Μ στο εσωτερικό του με ΜΓ = 1 και ΜΒ = $\sqrt{3}$. Να βρείτε το εμβαδόν του τριγώνου ΜΑΒ.

3. Έστω $K = 2 + 2^2 + 2^3 + \dots + 2^{2008}$. Να αποδείξετε ότι ο 30 διαιρεί τον κ.

4. α) Να αποδείξετε ότι : $\sqrt[3]{2} + \sqrt[3]{3} > \sqrt[3]{19}$

β) Να λύσετε την εξίσωση:

$$2^{-1}x + x^{-1} = \frac{\sqrt[3]{38}}{\sqrt[3]{2} + \sqrt[3]{3}}.$$

ΚΑΛΗ ΕΠΙΤΥΧΙΑ



ΕΠΙΤΡΟΠΗ ΔΙΑΓΩΝΙΣΜΩΝ
68^{ος} ΠΑΝΕΛΛΗΝΙΟΣ ΜΑΘΗΤΙΚΟΣ ΔΙΑΓΩΝΙΣΜΟΣ
ΣΤΑ ΜΑΘΗΜΑΤΙΚΑ
“Ο ΘΑΛΗΣ”
ΣΑΒΒΑΤΟ, 24 ΝΟΕΜΒΡΙΟΥ 2007

Β΄ τάξη Λυκείου

Πρόβλημα 1

Να βρεθούν οι πραγματικοί αριθμοί x, y που ικανοποιούν τη σχέση:

$$x^6 + x^4 - 2x^3 - 2x^2y^2 - 2y^2 + 2y^4 + 2 = 0.$$

Πρόβλημα 2

Να βρεθούν όλες οι δυνατές τιμές των θετικών μονοψήφιων ακεραίων αριθμών κ, λ, μ , για τους οποίους η δευτεροβάθμια εξίσωση $\kappa x^2 + \lambda x + \mu = 0$ έχει δύο ακέραιες ίσες λύσεις.

Πρόβλημα 3

Δίνεται ορθογώνιο και ισοσκελές τρίγωνο $AB\Gamma$ και ημιευθεία $Ax // B\Gamma$ (η Ax βρίσκεται στο ίδιο ημιεπίπεδο με το σημείο Γ ως προς την ευθεία AB). Στην ημιευθεία Ax θεωρούμε τα σημεία Δ και E έτσι, ώστε το τετράπλευρο $B\Gamma\Delta E$ να είναι ρόμβος (το σημείο E βρίσκεται ανάμεσα στο A και στο Δ). Στο σημείο Δ θεωρούμε την κάθετη ευθεία στη $\Delta\Gamma$ που τέμνει την προέκταση της πλευράς BA στο Z .

(α) Να αποδειχθεί ότι το τρίγωνο ΔEZ είναι ισόπλευρο.

(β) Να αποδειχθεί ότι το E είναι έγκεντρο του τριγώνου $ΑΓΖ$.

Πρόβλημα 4.

Αν $x, y, z \in \mathbb{R}^*$, να λυθεί το σύστημα:

$$3x^2y + 2yz^2 = 70xz$$

$$7y^2z + 4zx^2 = 256xy$$

$$5z^2x + 6xy^2 = 52yz.$$

ΚΑΛΗ ΕΠΙΤΥΧΙΑ



ΕΠΙΤΡΟΠΗ ΔΙΑΓΩΝΙΣΜΩΝ
69^{ος} ΠΑΝΕΛΛΗΝΙΟΣ ΜΑΘΗΤΙΚΟΣ ΔΙΑΓΩΝΙΣΜΟΣ
ΣΤΑ ΜΑΘΗΜΑΤΙΚΑ
“Ο ΘΑΛΗΣ”
ΣΑΒΒΑΤΟ, 1 ΝΟΕΜΒΡΙΟΥ 2008

Β΄ ΛΥΚΕΙΟΥ

1. Δεκαπέντε θετικοί ακέραιοι αριθμοί, με ψηφία περισσότερα από δύο, έχουν ως τελευταίο διψήφιο τμήμα τους τον αριθμό 15. Να αποδείξετε ότι το άθροισμα τους είναι πολλαπλάσιο του 25.

Μονάδες 5

2. Δίνεται τραπέζιο ΑΒΓΔ με $ΑΔ \parallel ΒΓ$ και $\hat{\Gamma} = \hat{\Delta} = 90^\circ$. Φέρουμε από το Α κάθετη προς τη ΒΓ που την τέμνει στο σημείο Ε και από το Ε κάθετη προς την διαγώνιο ΒΔ που την τέμνει στο σημείο Ζ. Να προσδιορίσετε το μέτρο της γωνίας ΑΖΓ.

Μονάδες 5

3. Να προσδιορίσετε τις τριάδες ακέραιων (x, y, z) με $x \geq y \geq z$, που ικανοποιούν τις εξισώσεις:

$$x^2(y-z) + y^2(z-x) + z^2(x-y) = 2,$$
$$x + y + z = 300.$$

Μονάδες 5

4. Δίνεται ευθύγραμμο τμήμα ΑΒ. Θεωρούμε τυχόν σημείο Μ εκτός του ΑΒ και τέτοιο ώστε η κάθετη από το Μ προς την ευθεία ΑΒ να την τέμνει σε εσωτερικό σημείο του ευθύγραμμου τμήματος ΑΒ. Φέρουμε ευθύγραμμα τμήματα ΑΓ και ΒΔ έτσι ώστε

$$ΑΓ \perp ΑΜ \text{ και } ΑΓ = ΑΜ, \quad ΒΔ \perp ΜΒ \text{ και } ΒΔ = ΜΒ,$$

και επιπλέον τα σημεία Γ, Μ και Δ να βρίσκονται στο ίδιο ημιεπίπεδο ως προς την ευθεία ΑΒ. Να αποδείξετε ότι το μέσον Κ του ευθύγραμμου τμήματος ΓΔ είναι σταθερό σημείο, δηλαδή είναι ανεξάρτητο από τη θέση του σημείου Μ.

Μονάδες 5

ΚΑΛΗ ΕΠΙΤΥΧΙΑ



ΕΠΙΤΡΟΠΗ ΔΙΑΓΩΝΙΣΜΩΝ
70^{ος} ΠΑΝΕΛΛΗΝΙΟΣ ΜΑΘΗΤΙΚΟΣ ΔΙΑΓΩΝΙΣΜΟΣ
ΣΤΑ ΜΑΘΗΜΑΤΙΚΑ
“Ο ΘΑΛΗΣ”
ΣΑΒΒΑΤΟ, 21 ΝΟΕΜΒΡΙΟΥ 2009

Β' ΛΥΚΕΙΟΥ

ΘΕΜΑ 1^ο

Αν α, β είναι θετικοί πραγματικοί αριθμοί, να αποδείξετε ότι:

$$\frac{4\sqrt{\alpha\beta}}{\alpha+\beta} \leq \left(\frac{1}{\alpha} + \frac{1}{\beta}\right) \cdot \frac{\alpha+\beta}{2}.$$

Μονάδες 5

ΘΕΜΑ 2^ο

Δίνεται οξυγώνιο τρίγωνο $AB\Gamma$, εγγεγραμμένο σε κύκλο $C(O, R)$. Αν A_1, B_1, Γ_1 είναι τα μέσα των πλευρών του $B\Gamma, A\Gamma, AB$ αντίστοιχα και A_2, B_2, Γ_2 είναι τα μέσα των $OA, OB, O\Gamma$ αντίστοιχα, να αποδείξετε ότι το εξάγωνο $A_2B_1\Gamma_2A_1B_2\Gamma_1$ έχει τις πλευρές του ίσες και ότι οι διαγωνίες του A_1A_2, B_1B_2 και $\Gamma_1\Gamma_2$ περνάνε από το ίδιο σημείο.

Μονάδες 5

ΘΕΜΑ 3^ο

Αν για τους πραγματικούς αριθμούς x, y με $x \geq 2009$ και $y \geq -2009$ ισχύει ότι:

$$\sqrt{x-2009} + \sqrt{y+2009} = \frac{x+y}{2} + 1,$$

να βρεθεί η τιμή της παράστασης

$$A = \frac{x-y+2}{2}.$$

Μονάδες 5

ΘΕΜΑ 4^ο

Να λυθεί το σύστημα:

$$\begin{cases} (x+y)^3 = z-2x-y \\ (y+z)^3 = x-2y-z \\ (z+x)^3 = y-2z-x \end{cases} \quad (\Sigma),$$

στο σύνολο των πραγματικών αριθμών.

Μονάδες 5

ΚΑΛΗ ΕΠΙΤΥΧΙΑ



ΕΠΙΤΡΟΠΗ ΔΙΑΓΩΝΙΣΜΩΝ
71^{ος} ΠΑΝΕΛΛΗΝΙΟΣ ΜΑΘΗΤΙΚΟΣ ΔΙΑΓΩΝΙΣΜΟΣ
ΣΤΑ ΜΑΘΗΜΑΤΙΚΑ
“Ο ΘΑΛΗΣ”
ΣΑΒΒΑΤΟ, 30 ΟΚΤΩΒΡΙΟΥ 2010

Β' Λυκείου

1. Αν για τους πραγματικούς αριθμούς x, y, z ισχύουν οι ισότητες

$$\sqrt{x^2 - y - z} = x - 2$$

$$\sqrt{y^2 - z - x} = y - 2$$

$$\sqrt{z^2 - x - y} = z - 2,$$

να αποδείξετε ότι $x + y + z = 6$ και να προσδιορίσετε τους αριθμούς x, y, z .

2. Δίνεται οξυγώνιο τρίγωνο $AB\Gamma$ και οι κύκλοι $c_1(A, AB)$ (με κέντρο το σημείο A και ακτίνα $R_1 = AB$) και $c_2(A, A\Gamma)$ (με κέντρο το σημείο A και ακτίνα $R_2 = A\Gamma$). Ο κύκλος $c_1(A, AB)$ τέμνει την ευθεία $B\Gamma$ στο σημείο E και την ευθεία AB στο σημείο Δ . Ο κύκλος $c_2(A, A\Gamma)$ τέμνει την ευθεία $B\Gamma$ στο σημείο K και την ευθεία $A\Gamma$ στο σημείο N .

α. Να αποδείξετε ότι το τετράπλευρο ΔEKN είναι ορθογώνιο.

β. Αν το τρίγωνο $AB\Gamma$ είναι ισοσκελές με $\Gamma A = \Gamma B$ και $\hat{\Gamma} = 30^\circ$, να αποδείξετε ότι το τετράπλευρο ΔEKN είναι τετράγωνο.

3. Αν για τους θετικούς πραγματικούς αριθμούς x, y ισχύει ότι $x + y = 4$, να αποδείξετε ότι:

$$\frac{(2x+1)^2}{x} + \frac{(2y+1)^2}{y} \geq 25.$$

Πότε ισχύει η ισότητα;

4. Δίνεται ορθογώνιο τρίγωνο $AB\Gamma$ ($\hat{A} = 90^\circ$) και έστω E το μέσο της διχοτόμου $B\Delta$. Η εφαπτομένη του περιγεγραμμένου κύκλου του τριγώνου AEB στο σημείο A τέμνει την πλευρά $B\Gamma$ στο σημείο M . Να αποδείξετε ότι η ευθεία ME και η διχοτόμος της γωνίας $\hat{\Gamma}$, τέμνονται πάνω στον περιγεγραμμένο κύκλο του τριγώνου $AB\Gamma$.

Κάθε θέμα βαθμολογείται με 5 μονάδες

ΚΑΛΗ ΕΠΙΤΥΧΙΑ



ΕΠΙΤΡΟΠΗ ΔΙΑΓΩΝΙΣΜΩΝ
72^{ος} ΠΑΝΕΛΛΗΝΙΟΣ ΜΑΘΗΤΙΚΟΣ ΔΙΑΓΩΝΙΣΜΟΣ
ΣΤΑ ΜΑΘΗΜΑΤΙΚΑ
“Ο ΘΑΛΗΣ”
19 Νοεμβρίου 2011

Β΄ ΛΥΚΕΙΟΥ

Πρόβλημα 1

(α) Να απλοποιήσετε την παράσταση:

$$K(x) = \frac{(x+2)(2x-1)(x-1) + x - 4}{x^2 - 2}, \quad x \neq \pm\sqrt{2}.$$

(β) Να υπολογίσετε την τιμή της αριθμητικής παράστασης:

$$A = \frac{2012 \cdot 4019 \cdot 2009 + 2006}{2010^2 - 2},$$

χωρίς την εκτέλεση των σημειούμενων πράξεων.

Πρόβλημα 2

Να αποδείξετε ότι η εξίσωση

$$\frac{1}{x-a} + \frac{1}{x-b} = \frac{1}{c^2},$$

με άγνωστο το x , έχει ρίζες στο \mathbb{R} , για όλες τις τιμές των παραμέτρων $a, b, c \in \mathbb{R}$, $c \neq 0$.

Πρόβλημα 3

Να λύσετε στους πραγματικούς αριθμούς το σύστημα:

$$y = x^3 + 2x - 2, \quad z = y^3 + 2y - 2, \quad x = z^3 + 2z - 2.$$

Πρόβλημα 4

Δίνεται οξυγώνιο σκαληνό τρίγωνο $AB\Gamma$ με $AB < A\Gamma < B\Gamma$, εγγεγραμμένο σε κύκλο $c(O, R)$. Οι διχοτόμοι των γωνιών \hat{A} , \hat{B} και $\hat{\Gamma}$, τέμνουν το κύκλο $c(O, R)$ στα σημεία Δ , E και Z αντίστοιχα. Από το σημείο Z , θεωρούμε παράλληλη στην $A\Gamma$, που τέμνει την $B\Gamma$ στο σημείο M . Από το σημείο E , θεωρούμε παράλληλη στην AB , που τέμνει την $B\Gamma$ στο σημείο N . Να αποδείξετε ότι:

- α) Τα τετράπλευρα $BMOZ$ και ΓNOE είναι εγγράψιμα σε κύκλους, έστω (c_1) και (c_2) , αντίστοιχα.
- β) Το δεύτερο κοινό σημείο, έστω K , των κύκλων (c_1) και (c_2) ανήκει στο κύκλο με κέντρο το σημείο Δ και ακτίνα ΔI , όπου I το έγκεντρο του τριγώνου $AB\Gamma$.

Κάθε θέμα βαθμολογείται με 5 μονάδες
Διάρκεια διαγωνισμού: 3 ώρες

Καλή επιτυχία!



ΕΠΙΤΡΟΠΗ ΔΙΑΓΩΝΙΣΜΩΝ
73^{ος} ΠΑΝΕΛΛΗΝΙΟΣ ΜΑΘΗΤΙΚΟΣ ΔΙΑΓΩΝΙΣΜΟΣ
ΣΤΑ ΜΑΘΗΜΑΤΙΚΑ
“Ο ΘΑΛΗΣ”
20 Οκτωβρίου 2012

Β' ΛΥΚΕΙΟΥ

Πρόβλημα 1

Αν $\alpha \neq 0$ και $-1 < \alpha < 1$, να βρείτε το πρόσημο της παράστασης

$$K = \frac{A}{B} - 1 + \alpha,$$

όπου

$$A = \sqrt{\frac{1+\alpha}{1-\alpha}} + \sqrt{\frac{1-\alpha}{1+\alpha}}, \quad B = \sqrt{\frac{1+\alpha}{1-\alpha}} - \sqrt{\frac{1-\alpha}{1+\alpha}}.$$

Πρόβλημα 2

Δίνεται η εξίσωση :

$$x^2 - 2\kappa x - 1 + \kappa^2 = 0.$$

Να βρείτε τις τιμές της παραμέτρου κ για τις οποίες η εξίσωση έχει δύο ρίζες στο διάστημα $(0, 5)$ με άθροισμα τέταρτων δυνάμεων ίσο με 82.

Πρόβλημα 3

Να προσδιορίσετε τους μη μηδενικούς ακέραιους x, y και z για τους οποίους ισχύει ότι

$$\frac{x}{2012x+3} = \frac{y}{2012y+5} = \frac{z}{2012z+7}$$

και το άθροισμα των τετραγώνων των x, y και z είναι διαιρέτης του 747.

Πρόβλημα 4

Δίνεται κύκλος $c(O, R)$, τυχούσα χορδή του AB (όχι διάμετρος) και τυχόν σημείο M του μικρού τόξου AB . Οι κύκλοι $c_1(A, AM)$ και $c_2(B, BM)$ τέμνουν το κύκλο $c(O, R)$ στα σημεία K και N , αντίστοιχα. Οι κύκλοι $c_1(A, AM)$ και $c_2(B, BM)$ τέμνονται στο σημείο T . Να αποδείξετε ότι το σημείο T είναι το σημείο τομής των διχοτόμων του τριγώνου KMN .

*Κάθε θέμα βαθμολογείται με 5 μονάδες
Διάρκεια διαγωνισμού: 3 ώρες*

Καλή επιτυχία!

ΕΛΛΗΝΙΚΗ ΜΑΘΗΜΑΤΙΚΗ ΕΤΑΙΡΕΙΑ
Πανεπιστημίου (Ελευθερίου Βενιζέλου) 34
106 79 ΑΘΗΝΑ
Τηλ. 3616532 - 3617784 - Fax: 3641025
e-mail : info@hms.gr
www.hms.gr



GREEK MATHEMATICAL SOCIETY
34, Panepistimiou (Eleftheriou Venizelou) Street
GR. 106 79 - Athens - HELLAS
Tel. 3616532 - 3617784 - Fax: 3641025
e-mail : info@hms.gr
www.hms.gr

ΕΠΙΤΡΟΠΗ ΔΙΑΓΩΝΙΣΜΩΝ
74^{ος} ΠΑΝΕΛΛΗΝΙΟΣ ΜΑΘΗΤΙΚΟΣ ΔΙΑΓΩΝΙΣΜΟΣ
ΣΤΑ ΜΑΘΗΜΑΤΙΚΑ
“Ο ΘΑΛΗΣ”
19 Οκτωβρίου 2013

Β΄ ΛΥΚΕΙΟΥ

Πρόβλημα 1

Για κάθε θετικό πραγματικό αριθμό x να αποδείξετε ότι:

$$\frac{9x^2 + 3x + 1}{x} - \frac{27x}{9x^2 + 3x + 1} \geq 6.$$

Για ποιες τιμές του x ισχύει η ισότητα;

Πρόβλημα 2

Να υπολογιστούν οι ακέραιοι συντελεστές α, β, γ της εξίσωσης $ax^2 + bx + \gamma = 0$ με $a \neq 0$, αν αυτή έχει ρίζες $x_1 = 1$ και $x_2 = \beta$.

Πρόβλημα 3

Να βρείτε όλες τις τιμές του πραγματικού αριθμού x για τις οποίες η αριθμητική τιμή του κλάσματος

$$\frac{2x^2 + x - 4}{x^2 - x + 2}$$

είναι θετικός ακέραιος.

Πρόβλημα 4

Δίνεται οξυγώνιο τρίγωνο $AB\Gamma$ (με $AB < A\Gamma < B\Gamma$) εγγεγραμμένο σε κύκλο $C(O, R)$ (με κέντρο O και ακτίνα R). Ο κύκλος $C_B(B, AB)$ (με κέντρο B και ακτίνα AB), τέμνει την $A\Gamma$ στο σημείο K και τον κύκλο $C(O, R)$ στο σημείο A . Ο κύκλος $C_\Gamma(\Gamma, A\Gamma)$ (με κέντρο Γ και ακτίνα $A\Gamma$), τέμνει την AB στο σημείο M και τον κύκλο $C(O, R)$ στο σημείο N . Να αποδείξετε ότι το τετράπλευρο που ορίζουν τα σημεία K, A, M, N είναι ισοσκελές τραπέζιο.

Κάθε θέμα βαθμολογείται με 5 μονάδες
Διάρκεια διαγωνισμού: 3 ώρες

Καλή επιτυχία!



ΕΠΙΤΡΟΠΗ ΔΙΑΓΩΝΙΣΜΩΝ
75^{ος} ΠΑΝΕΛΛΗΝΙΟΣ ΜΑΘΗΤΙΚΟΣ ΔΙΑΓΩΝΙΣΜΟΣ
ΣΤΑ ΜΑΘΗΜΑΤΙΚΑ
“Ο ΘΑΛΗΣ”
1 Νοεμβρίου 2014

Β΄ ΛΥΚΕΙΟΥ

Πρόβλημα 1

Έστω k ένας ακέραιος και x ένας θετικός πραγματικός αριθμός. Να συγκριθούν οι αριθμοί:

$$A = \frac{x^k + 1}{x^{k+1} + 1} \quad \text{και} \quad B = \frac{x^{k+1} + 1}{x^{k+2} + 1}.$$

Πρόβλημα 2

Να προσδιορίσετε όλα τα ζεύγη ακεραίων (x, y) που είναι λύσεις της εξίσωσης:

$$2x^2 - 10xy + 13y^2 + 2|x - y| = 5$$

Πρόβλημα 3

Δίνεται οξυγώνιο τρίγωνο ABC (με $AB < AC < BC$) εγγεγραμμένο σε κύκλο (c) (με κέντρο O και ακτίνα R) και έστω D, E τα αντιδιαμετρικά σημεία των B, C , αντίστοιχα (ως προς τον κύκλο (c)). Ο κύκλος (c_1) (με κέντρο A και ακτίνα AE), τέμνει την AC στο σημείο K . Ο κύκλος (c_2) (με κέντρο A και ακτίνα AD), τέμνει την προέκταση της AB (προς το μέρος του A) στο σημείο L . Να αποδείξετε ότι οι ευθείες EK και DL τέμνονται επάνω στο κύκλο (c) .

Πρόβλημα 4

Σε έναν διαγωνισμό που η μέγιστη δυνατή βαθμολογία ήταν 100 έλαβαν μέρος x μαθητές. Οκτώ μαθητές πήραν βαθμό 100, ενώ όλοι οι υπόλοιποι πήραν βαθμό μεγαλύτερο ή ίσο του 70. Αν ο μέσος όρος των βαθμών των μαθητών ήταν 78, να βρεθεί η ελάχιστη δυνατή τιμή του πλήθους των μαθητών.

*Κάθε θέμα βαθμολογείται με 5 μονάδες
Διάρκεια διαγωνισμού: 3 ώρες*

Καλή επιτυχία!

Θέματα Θαλή
της Γ' Λυκείου

2006 εως 2015

από τον parmenides51

σχολικό έτος αριθμηση / ημερομηνία ονομασία

Διαγωνισμός Θαλής

2006-2007	67 ^{ος} / 09-12-2006	Θαλής 2006
2007-2008	68 ^{ος} / 24-11-2007	Θαλής 2007
2008-2009	69 ^{ος} / 01-11-2008	Θαλής 2008
2009-2010	70 ^{ος} / 21-11-2009	Θαλής 2009
2010-2011	71 ^{ος} / 30-10-2010	Θαλής 2010
2011-2012	72 ^{ος} / 19-11-2011	Θαλής 2011
2012-2013	73 ^{ος} / 20-10-2012	Θαλής 2012
2013-2014	74 ^{ος} / 19-10-2013	Θαλής 2013
2014-2015	75 ^{ος} / 01-11-2014	Θαλής 2014

Για ευκολία χρησιμοποιήστε τους σελιδοδείκτες (bookmarks) στο αριστερό μέρος του pdf.



ΕΠΙΤΡΟΠΗ ΔΙΑΓΩΝΙΣΜΩΝ
67^{ος} ΠΑΝΕΛΛΗΝΙΟΣ ΜΑΘΗΤΙΚΟΣ ΔΙΑΓΩΝΙΣΜΟΣ
ΣΤΑ ΜΑΘΗΜΑΤΙΚΑ
“Ο ΘΑΛΗΣ”
ΣΑΒΒΑΤΟ, 9 ΔΕΚΕΜΒΡΙΟΥ 2006

Γ' τάξη Λυκείου

1. Έστω συνάρτηση $f : \mathbb{R} \rightarrow \mathbb{R}$ με την ιδιότητα $f(f(x+y)) = x - f(y)$ για κάθε $x, y \in \mathbb{R}$. Να αποδείξετε ότι η $h : \mathbb{R} \rightarrow \mathbb{R}$ με $h(x) = f(x) + f(-x)$ είναι σταθερή.

2. Να βρείτε τις ακέραιες λύσεις της εξίσωσης

$$3^{x+1} - x \cdot 3^x - 4x - 1 = 0.$$

3. Έστω οι μιγαδικοί αριθμοί z_1, z_2 και $\theta \in \left(0, \frac{\pi}{2}\right)$.

Να αποδείξετε ότι:

$$\frac{|z_1|^2}{\sigma \nu^2 \theta} + \frac{|z_2|^2}{\eta \mu^2 \theta} \geq |z_1|^2 + |z_2|^2 + 2 \operatorname{Re}(\overline{z_1} z_2).$$

4. Δίνεται ευθύγραμμο τμήμα ΒΓ και τα σημεία Κ, Λ, Μ προς το ίδιο μέρος της ευθείας ΒΓ.

Αν $B\hat{K}\Gamma = B\hat{\Lambda}\Gamma = B\hat{M}\Gamma$, τότε να αποδείξετε ότι δύο τουλάχιστον από τα γινόμενα $KB \cdot K\Gamma$, $LB \cdot L\Gamma$ και $MB \cdot M\Gamma$ είναι άνισα.

ΚΑΛΗ ΕΠΙΤΥΧΙΑ



ΕΠΙΤΡΟΠΗ ΔΙΑΓΩΝΙΣΜΩΝ
68^{ος} ΠΑΝΕΛΛΗΝΙΟΣ ΜΑΘΗΤΙΚΟΣ ΔΙΑΓΩΝΙΣΜΟΣ
ΣΤΑ ΜΑΘΗΜΑΤΙΚΑ
“Ο ΘΑΛΗΣ”
ΣΑΒΒΑΤΟ, 24 ΝΟΕΜΒΡΙΟΥ 2007

Γ΄ τάξη Λυκείου

Πρόβλημα 1

Έστω ισοσκελές τρίγωνο $AB\Gamma$ με $AB = A\Gamma$ και $\hat{A} = 30^\circ$. Στα σημεία A και Γ θεωρούμε τις εφαπτόμενες του περιγεγραμμένου κύκλου του τριγώνου $AB\Gamma$ που τέμνονται στο Δ .

(α) Να αποδείξετε ότι τα τρίγωνα $AB\Gamma$ και $A\Gamma\Delta$ είναι όμοια.

(β) Να υπολογίσετε το εμβαδόν του τετραπλεύρου $AB\Gamma\Delta$ συναρτήσει της πλευράς $B\Gamma = a$ του τριγώνου $AB\Gamma$.

Πρόβλημα 2

(α) Να προσδιοριστούν οι παράμετροι $\lambda, \mu \in \mathbb{R}$ έτσι ώστε ο αριθμός 2 να είναι ρίζα των εξισώσεων:

$$\lambda x^3 - (\mu + 4)x - 2 = 0 \text{ και } \mu x^2 - 4x - \lambda - 2 = 0.$$

(β) Για τις τιμές των λ, μ που βρήκατε στο ερώτημα (α), να λύσετε την εξίσωση

$$\frac{\lambda x^3 - (\mu + 4)x - 2}{\mu x^2 - 4x - \lambda - 2} = \frac{17}{8}.$$

Πρόβλημα 3

Αν για τη συνάρτηση $f : \mathbb{R} \rightarrow \mathbb{R}$ ισχύει:

$$f(f(x) - f(y)) = f(f(x)) - y, \text{ για κάθε } x, y \in \mathbb{R},$$

τότε να αποδείξετε ότι η συνάρτηση f είναι περιττή.

Πρόβλημα 4

Για κάθε τρεις μη μηδενικούς πραγματικούς αριθμούς a, b και c , που είναι διαφορετικοί μεταξύ τους ανά δύο, να αποδείξετε ότι:

$$\left(\frac{a+b}{a-b}\right)^2 + \left(\frac{b+c}{b-c}\right)^2 + \left(\frac{c+a}{c-a}\right)^2 \geq 2.$$

ΚΑΛΗ ΕΠΙΤΥΧΙΑ



ΕΠΙΤΡΟΠΗ ΔΙΑΓΩΝΙΣΜΩΝ
69^{ος} ΠΑΝΕΛΛΗΝΙΟΣ ΜΑΘΗΤΙΚΟΣ ΔΙΑΓΩΝΙΣΜΟΣ
ΣΤΑ ΜΑΘΗΜΑΤΙΚΑ
“Ο ΘΑΛΗΣ”
ΣΑΒΒΑΤΟ, 1 ΝΟΕΜΒΡΙΟΥ 2008

Γ' ΛΥΚΕΙΟΥ

1. Αν οι θετικοί ακέραιοι α και β έχουν 120 κοινούς θετικούς διαιρέτες, να προσδιορίσετε το πλήθος των κοινών θετικών διαιρετών των αριθμών
 $A = 4\alpha + 5\beta$ και $B = 3\alpha + 4\beta$.

Μονάδες 5

2. Να προσδιορίσετε το πλήθος και το άθροισμα των άρτιων θετικών ακέραιων που βρίσκονται μεταξύ των αριθμών $A = n^2 - n + 1$ και $B = n^2 + n + 1$, όπου n θετικός ακέραιος.

Μονάδες 5

3. Να προσδιορίσετε τις τριάδες ακέραιων (x, y, z) με $x \geq y \geq z$ που ικανοποιούν την εξίσωση:

$$xy(x - y) + yz(y - z) + zx(z - x) = 6.$$

Ποιες από τις τριάδες αυτές έχουν άθροισμα τετραγώνων ελάχιστο;

Μονάδες 5

4. Δίνεται ευθύγραμμο τμήμα AB . Θεωρούμε τυχόν σημείο M εκτός του AB και τέτοιο ώστε η κάθετη από αυτό προς την ευθεία AB να την τέμνει σε εσωτερικό σημείο του ευθύγραμμου τμήματος AB . Φέρουμε ευθύγραμμα τμήματα AM και BM τέτοια ώστε $AM \perp BM$ και $AM = 2 \cdot BM$, $BM \perp AM$ και $BM = 2 \cdot AM$

και επιπλέον τα σημεία M , A και B να βρίσκονται στο ίδιο ημιεπίπεδο ως προς την ευθεία AB . Να αποδείξετε ότι το μέσον K του ευθύγραμμου τμήματος AB είναι σταθερό σημείο, δηλαδή είναι ανεξάρτητο από τη θέση του σημείου M .

Μονάδες 5

ΚΑΛΗ ΕΠΙΤΥΧΙΑ



ΕΠΙΤΡΟΠΗ ΔΙΑΓΩΝΙΣΜΩΝ
70^{ος} ΠΑΝΕΛΛΗΝΙΟΣ ΜΑΘΗΤΙΚΟΣ ΔΙΑΓΩΝΙΣΜΟΣ
ΣΤΑ ΜΑΘΗΜΑΤΙΚΑ
“Ο ΘΑΛΗΣ”
ΣΑΒΒΑΤΟ, 21 ΝΟΕΜΒΡΙΟΥ 2009

Γ΄ ΛΥΚΕΙΟΥ

ΘΕΜΑ 1^ο.

Να αποδείξετε ότι δεν υπάρχουν θετικοί ακέραιοι x, y που να επαληθεύουν την εξίσωση

$$2x^2 + 3x(x-2) + 11x - 10y = 2015$$

Μονάδες 5

ΘΕΜΑ 2^ο

Για τη συνάρτηση $f : \mathbb{R} \rightarrow \mathbb{R}$ ισχύει ότι:

$$f(x - f(y)) - f(y - f(x)) = 2f(f(x) - f(y)),$$

για κάθε $x, y \in \mathbb{R}$. Να αποδείξετε ότι $f(x - f(x)) = 0$, για κάθε $x \in \mathbb{R}$.

Μονάδες 5

ΘΕΜΑ 3^ο

Δίνονται τρεις θετικοί ακέραιοι αριθμοί με δεκαδική αναπαράσταση της μορφής $\alpha \underbrace{000 \dots 000}_{2\nu-ψηφία} \alpha$, όπου α είναι θετικός μονοψήφιος ακέραιος και μεταξύ του πρώτου και

του τελευταίου ψηφίου του αριθμού $\alpha 00 \dots 00 \alpha$, μεσολαβούν 2ν το πλήθος μηδενικά.

Να αποδείξετε ότι: “ή ένας από αυτούς θα διαιρείται με το 33 ή το άθροισμα κάποιων από αυτούς θα διαιρείται με το 33”.

Μονάδες 5

ΘΕΜΑ 4^ο.

Δίνεται τρίγωνο $AB\Gamma$, εγγεγραμμένο σε κύκλο $C(O, R)$ και έστω A_1, B_1, Γ_1 τα μέσα των

πλευρών του $B\Gamma, A\Gamma, AB$ αντίστοιχα. Θεωρούμε τους κύκλους $C_1(A_1, \frac{R}{2})$, $C_2(B_1, \frac{R}{2})$ και

$C_3(\Gamma_1, \frac{R}{2})$. Να αποδείξετε ότι οι κύκλοι C_1, C_2, C_3 περνάνε από το ίδιο σημείο (έστω N) και

ότι τα δεύτερα κοινά σημεία τους είναι τα μέσα A_2, B_2, Γ_2 των $OA, OB, O\Gamma$ αντίστοιχα. Στη συνέχεια να αποδείξετε ότι οι $A_1A_2, B_1B_2, \Gamma_1\Gamma_2$ και ON περνάνε από το ίδιο σημείο.

Μονάδες 5

ΚΑΛΗ ΕΠΙΤΥΧΙΑ



ΕΠΙΤΡΟΠΗ ΔΙΑΓΩΝΙΣΜΩΝ
71^{ος} ΠΑΝΕΛΛΗΝΙΟΣ ΜΑΘΗΤΙΚΟΣ ΔΙΑΓΩΝΙΣΜΟΣ
ΣΤΑ ΜΑΘΗΜΑΤΙΚΑ
“Ο ΘΑΛΗΣ”
ΣΑΒΒΑΤΟ, 30 ΟΚΤΩΒΡΙΟΥ 2010

Γ' Λυκείου

1. Να λυθεί στους πραγματικούς αριθμούς η εξίσωση

$$(2x^2 + 3x + 1)^3 - (x^2 + 3x + 2)^3 = 7(x^2 - 1)^3.$$

2. Δίνεται οξυγώνιο τρίγωνο $AB\Gamma$. Το ύψος του $A\Delta$ τέμνει τον περιγεγραμμένο κύκλο του στο σημείο Z και ο περιγεγραμμένος κύκλος του τριγώνου $B\Delta Z$ τέμνει την ευθεία AB στο σημείο E . Αν η ευθεία $E\Delta$ τέμνει την ευθεία $A\Gamma$ στο K και η ευθεία ZK τέμνει την ευθεία $B\Gamma$ στο σημείο Λ , να αποδείξετε ότι το σημείο Δ είναι το μέσο του ευθύγραμμου τμήματος $B\Lambda$.

3. Σε τουρνουά τένις συμμετέχουν 2^m , όπου m θετικός ακέραιος, αθλητές οι οποίοι έχουν βαθμολογηθεί και καταταγεί ανάλογα με την γενικότερη επίδοση τους. Το τουρνουά διεξάγεται σε “γύρους”. Στον πρώτο “γύρο” ο πρώτος αθλητής αγωνίζεται με τον τελευταίο αθλητή, ο δεύτερος αγωνίζεται με τον προτελευταίο και η διαδικασία συνεχίζεται μέχρι να αγωνιστούν όλοι οι αθλητές. Οι νικητές του πρώτου “γύρου” κατατάσσονται ξανά και συμμετέχουν στον δεύτερο “γύρο” ακολουθώντας ανάλογη διαδικασία με αυτή του πρώτου “γύρου”. Η διαδικασία συνεχίζεται μέχρι να ανακηρυχτεί ο πρωταθλητής. Σε κάθε νικητή του πρώτου γύρου δίνονται 10 βαθμοί, σε κάθε νικητή του δεύτερου γύρου δίνονται 20 βαθμοί, σε κάθε νικητή του τρίτου γύρου δίνονται 30 βαθμοί κ.ο.κ.

- α. Αν ο θετικός ακέραιος m είναι πολλαπλάσιο του 3, να αποδείξετε ότι το συνολικό πλήθος των αγώνων είναι πολλαπλάσιο του 7.
- β. Αν ο πρωταθλητής συγκέντρωσε συνολικά 210 βαθμούς, να βρείτε τον αριθμό των αθλητών που συμμετείχαν.

4. Μια ευθεία εφάπτεται των κύκλων $c_1(O_1, r_1)$ και $c_2(O_2, r_2)$ στα διακεκριμένα σημεία A και B , αντιστοίχως. Αν το M είναι κοινό σημείο των δύο κύκλων $c_1(O_1, r_1)$, $c_2(O_2, r_2)$ και ισχύει ότι $r_1 < r_2$, να αποδείξετε ότι $MA < MB$.



ΕΠΙΤΡΟΠΗ ΔΙΑΓΩΝΙΣΜΩΝ
72^{ος} ΠΑΝΕΛΛΗΝΙΟΣ ΜΑΘΗΤΙΚΟΣ ΔΙΑΓΩΝΙΣΜΟΣ
ΣΤΑ ΜΑΘΗΜΑΤΙΚΑ
“Ο ΘΑΛΗΣ”
19 Νοεμβρίου 2011

Γ' ΛΥΚΕΙΟΥ

Πρόβλημα 1

Να λυθεί στους πραγματικούς αριθμούς η εξίσωση

$$(x^2 + 3x + 2)^4 + (x^2 + x - 2)^4 = 16(x + 2)^4.$$

Πρόβλημα 2

Να προσδιορίσετε την τιμή της παραμέτρου $\alpha \in \mathbb{R}$, αν το σύστημα

$$\left\{ \alpha(x^2 + y^2) + 2x + y = \lambda, \quad 2x - y = -\lambda \right\} \quad (\Sigma)$$

έχει λύση στο \mathbb{R} , για κάθε τιμή της παραμέτρου $\lambda \in \mathbb{R}$.

Πρόβλημα 3

Η ακολουθία $a_n, n = 0, 1, 2, \dots$ είναι τέτοια ώστε η ακολουθία $d_n = a_n - a_{n-1}$, με $n = 1, 2, 3, \dots$ είναι αριθμητική πρόοδος με διαφορά $\omega = a_1 - a_0$.

1. Να προσδιορίσετε, συναρτήσει των a_0, ω και n τον γενικό όρο a_n και το άθροισμα $S_{n+1} = a_0 + a_1 + \dots + a_n$.
2. Αν είναι $a_0 = 1$ και $a_1 = 7$, να προσδιορίσετε τον ελάχιστο θετικό ακέραιο n για τον οποίο συναληθεύουν οι ανισώσεις: $a_n > 10^3$ και $S_{n+1} \leq 8 \cdot 10^3$.

Πρόβλημα 4

Δίνεται οξυγώνιο σκαληνό τρίγωνο $AB\Gamma$ με $AB < A\Gamma < B\Gamma$, εγγεγραμμένο σε κύκλο (c) και Δ τυχόν σημείο της πλευράς $B\Gamma$. Η διχοτόμος της γωνίας \hat{B} , τέμνει τον κύκλο (c) στο σημείο Σ , τη διχοτόμο της γωνίας $A\hat{\Delta}B$ στο σημείο K και τη διχοτόμο της γωνίας $A\hat{\Delta}\Gamma$ στο σημείο M . Η διχοτόμος της γωνίας $\hat{\Gamma}$, τέμνει τον κύκλο (c) στο σημείο T , τη διχοτόμο της γωνίας $A\hat{\Delta}\Gamma$ στο σημείο Λ και τη διχοτόμο της γωνίας $A\hat{\Delta}B$ στο σημείο N . Να αποδείξετε ότι:

- α) Τα σημεία A, I, Λ, M και A, I, K, N , όπου I το έκεντρο του τριγώνου $AB\Gamma$, είναι ομοκυκλικά σε δύο διαφορετικούς κύκλους, έστω (c_1) και (c_2) , αντίστοιχα.
- β) Αν η $A\Delta$ ταυτιστεί με το ύψος του τριγώνου $AB\Gamma$ που αντιστοιχεί στη κορυφή A , τότε οι κύκλοι (c_1) και (c_2) είναι ίσοι μεταξύ τους.

Κάθε θέμα βαθμολογείται με 5 μονάδες
Διάρκεια διαγωνισμού: 3 ώρες

Καλή επιτυχία!



ΕΠΙΤΡΟΠΗ ΔΙΑΓΩΝΙΣΜΩΝ
73^{ος} ΠΑΝΕΛΛΗΝΙΟΣ ΜΑΘΗΤΙΚΟΣ ΔΙΑΓΩΝΙΣΜΟΣ
ΣΤΑ ΜΑΘΗΜΑΤΙΚΑ
“Ο ΘΑΛΗΣ”
20 Οκτωβρίου 2012

Γ' ΛΥΚΕΙΟΥ

Πρόβλημα 1

Να λύσετε στους θετικούς ακέραιους την εξίσωση

$$\frac{1}{1+2} + \frac{1}{1+2+3} + \frac{1}{1+2+3+4} + \dots + \frac{1}{1+2+3+4+\dots+x} = \frac{2011}{2013}.$$

Πρόβλημα 2

Αν οι γραφικές παραστάσεις των συναρτήσεων $f(x) = ax^2 + bx + c$ και $g(x) = cx + b$, όπου $a, b, c \in \mathbb{R}$, $a \neq 0$, διαφορετικοί μεταξύ τους ανά δύο, έχουν ένα μόνο κοινό σημείο, να βρείτε τη συνθήκη που ισχύει μεταξύ των παραμέτρων a, b, c καθώς και το κοινό σημείο των δύο γραφικών παραστάσεων.

Πρόβλημα 3

Να προσδιορίσετε τους μη μηδενικούς πραγματικούς αριθμούς x, y και z για τους οποίους ισχύει ότι

$$\frac{x}{2012x+y} = \frac{y}{2012y+z} = \frac{z}{2012z+7}$$

και το άθροισμα των τετραγώνων των x, y και z ισούται με 147.

Πρόβλημα 4

Δίνεται κύκλος $c(O, R)$, τυχούσα χορδή του BC (όχι διάμετρος) και τυχόν σημείο M του μικρού τόξου BC . Οι κύκλοι $c_1(B, BM)$, $c_2(C, CM)$ τέμνουν το κύκλο $c(O, R)$ στα σημεία K, N , αντίστοιχα, και οι κύκλοι $c_1(B, BM)$, $c_2(C, CM)$ τέμνονται στα σημεία A και M . Η παράλληλος από το σημείο M προς την BC τέμνει τους κύκλους $c_1(B, BM)$, $c_2(C, CM)$ στα σημεία T, S , αντίστοιχα. Να αποδείξετε ότι οι ευθείες AM, KT, NS περνάνε από το ίδιο σημείο.

*Κάθε θέμα βαθμολογείται με 5 μονάδες
Διάρκεια διαγωνισμού: 3 ώρες*

Καλή επιτυχία!



ΕΠΙΤΡΟΠΗ ΔΙΑΓΩΝΙΣΜΩΝ
74^{ος} ΠΑΝΕΛΛΗΝΙΟΣ ΜΑΘΗΤΙΚΟΣ ΔΙΑΓΩΝΙΣΜΟΣ
ΣΤΑ ΜΑΘΗΜΑΤΙΚΑ
“Ο ΘΑΛΗΣ”
19 Οκτωβρίου 2013

Γ' ΛΥΚΕΙΟΥ

Πρόβλημα 1

Να λύσετε στους πραγματικούς αριθμούς την εξίσωση

$$2x^2 - 5x - 2x\sqrt{x^2 - 5x} = 1.$$

Πρόβλημα 2

Αν α, β ακέραιοι και ο αριθμός $A = \alpha^2 + 2\beta$ είναι τέλειο τετράγωνο ακεραίου, να αποδείξετε ότι ο αριθμός $B = \alpha^2 + \beta$ ισούται με το άθροισμα δύο τέλειων τετραγώνων ακεραίων αριθμών.

Πρόβλημα 3

Βρείτε για ποιες τιμές της πραγματικής παραμέτρου a η εξίσωση

$$4x^4 + (8 + 4a)x^3 + (a^2 + 8a + 4)x^2 + (a^3 + 8)x + a^2 = 0$$

έχει όλες τις ρίζες της πραγματικούς αριθμούς.

Πρόβλημα 4

Δίνεται οξυγώνιο τρίγωνο $AB\Gamma$ (με $AB < A\Gamma < B\Gamma$) εγγεγραμμένο σε κύκλο $C(O, R)$ (με κέντρο O και ακτίνα R) και ευθεία (ε) που περνάει από την κορυφή A και είναι παράλληλη στη πλευρά $B\Gamma$. Ο κύκλος $C_B(B, AB)$ (με κέντρο B και ακτίνα AB), τέμνει την (ε) στο σημείο K και τον κύκλο $C(O, R)$ στο σημείο L . Ο κύκλος $C_\Gamma(\Gamma, A\Gamma)$ (με κέντρο Γ και ακτίνα $A\Gamma$), τέμνει την (ε) στο σημείο N και τον κύκλο $C(O, R)$ στο σημείο M . Οι κύκλοι $C_B(B, AB)$, $C_\Gamma(\Gamma, A\Gamma)$ τέμνονται στο σημείο T και η (ε) τέμνει τον $C(O, R)$ στο σημείο Σ .

(α) Να αποδείξετε ότι τα σημεία Γ, L, N, T είναι συνευθειακά.

(β) Να αποδείξετε ότι οι ευθείες $T\Sigma, K\Gamma, NB$ περνάνε από το ίδιο σημείο.

Κάθε θέμα βαθμολογείται με 5 μονάδες
Διάρκεια διαγωνισμού: 3 ώρες

Καλή επιτυχία!



ΕΠΙΤΡΟΠΗ ΔΙΑΓΩΝΙΣΜΩΝ
75^{ος} ΠΑΝΕΛΛΗΝΙΟΣ ΜΑΘΗΤΙΚΟΣ ΔΙΑΓΩΝΙΣΜΟΣ
ΣΤΑ ΜΑΘΗΜΑΤΙΚΑ
“Ο ΘΑΛΗΣ”
1 Νοεμβρίου 2014

Γ' ΛΥΚΕΙΟΥ

Πρόβλημα 1

Δίνεται η παραβολή με εξίσωση $y = x^2 - (3\alpha - 5)x + 186$, $\alpha \in \mathbb{R}$. Να προσδιορίσετε τις τιμές του α για τις οποίες η παραβολή τέμνει τον άξονα των x σε δύο σημεία διαφορετικά μεταξύ τους με ακέραιες συντεταγμένες.

Πρόβλημα 2

Να λυθεί στους πραγματικούς αριθμούς το σύστημα :

$$\begin{cases} x^4 + x^2 y^2 + y^4 = 91 \\ x^2 + xy + y^2 = 13 \end{cases}$$

Πρόβλημα 3

Δίνεται τρίγωνο $AB\Gamma$ (με $AB < A\Gamma < B\Gamma$ εγγεγραμμένο σε κύκλο $C(O, R)$). Η διχοτόμος $B\Delta$ τέμνει τον περιγεγραμμένο κύκλο $C(O, R)$, στο σημείο Z . Έστω E τυχόν σημείο του τμήματος $\Delta\Gamma$. Η ευθεία BE τέμνει τον κύκλο $C(O, R)$ στο σημείο H . Οι ευθείες $A\Gamma$ και ZH τέμνονται στο σημείο Θ . Επίσης, η ευθεία ZE τέμνει τον κύκλο $C(O, R)$ στο σημείο K . Να αποδείξετε ότι τα τετράπλευρα $B\Delta H\Theta$, $B\Delta EK$ και $\Delta Z\Theta K$ είναι εγγράψιμα.

Πρόβλημα 4

Να βρείτε όλους τους φυσικούς αριθμούς n , που έχουν ακριβώς τέσσερις θετικούς διαιρέτες

$d_1 < d_2 < d_3 < d_4$ και ικανοποιούν τη σχέση:

$$d_1 + d_2 + d_3 + d_4 = 640.$$

*Κάθε θέμα βαθμολογείται με 5 μονάδες
Διάρκεια διαγωνισμού: 3 ώρες*

Καλή επιτυχία!